

Freie und Hansestadt Hamburg
Behörde für Schule und Berufsbildung

Schriftliche Abiturprüfung

Informatik

Hinweise und Beispiele zu den
zentralen schriftlichen Prüfungsaufgaben

Impressum

Herausgeber:

Freie und Hansestadt Hamburg
Behörde für Schule und Berufsbildung
Landesinstitut für Lehrerbildung und Schulentwicklung
Felix-Dahn-Straße 3, 20357 Hamburg

Referatsleitung Unterrichtsentwicklung

mathematisch-naturwissenschaftlich-technischer Unterricht:

Monika Seiffert

Fachreferentin Informatik: Christina von Bremen

Mitarbeit: Claus Albowski, Sven Alisch, Alexandra Kück, Tammo Ricklefs, Jörg Viole

Diese Veröffentlichung beinhaltet Teile von Werken, die nach ihrer Beschaffenheit nur für den Unterrichtsgebrauch in Hamburger Schulen sowie für Aus- und Weiterbildung am Hamburger Landesinstitut für Lehrerbildung und Schulentwicklung bestimmt sind.

Eine öffentliche Zugänglichmachung dieses für den Unterricht an Hamburger Schulen bestimmten Werkes ist nur mit Einwilligung des Landesinstituts für Lehrerbildung und Schulentwicklung zulässig.

Veröffentlicht auf: www.li.hamburg.de/abiturpruefung

Hamburg 2017

Inhaltsverzeichnis

Vorwort	4
1 Regelungen für die schriftliche Abiturprüfung	5
2 Liste der Operatoren	6
3 Hinweise zur Bewertung	7
4 Aufgabenbeispiele	8
4.1 grundlegendes Anforderungsniveau	8
Aufgabe I: Objektorientierte Modellierung und Programmierung.....	8
Aufgabe II: Datensicherheit in verteilten Systemen.....	22
Aufgabe III: Simulation	26
4.2 erhöhtes Anforderungsniveau	34
Aufgabe I: Objektorientierte Modellierung und Programmierung.....	34
Aufgabe II: Datensicherheit in verteilten Systemen.....	39
Aufgabe III.1: Intelligente Suchverfahren	44
Aufgabe III.2: Sprachverarbeitung	52

Vorwort

Sehr geehrte Kolleginnen und Kollegen,

seit dem Schuljahr 2013/2014 ist die Zahl der Fächer mit zentral gestellten Aufgaben in der Abiturprüfung u. a. um die MINT-Fächer Biologie, Chemie, Informatik und Physik erweitert worden.

Die schriftlichen Abituraufgaben für diese Fächer werden zentral von der Schulbehörde erstellt. Sie beziehen sich auf Themen, die etwa 50 % des Unterrichts in der Studienstufe ausmachen und in den Rahmenplänen bereits verbindlich geregelt sind. Damit bleibt in der Profiloberstufe eine vernünftige Balance zwischen schulisch geprägten Themen und zentralen Leistungsanforderungen erhalten. Die fachspezifischen Hinweise im sogenannten A-Heft, den „Regelungen für die zentralen schriftlichen Prüfungen“ für das Abitur (für das Abitur 2019 siehe <http://www.hamburg.de/abitur-2019/>) informieren über die aktuellen Schwerpunkte und Anforderungen der Prüfungsaufgaben. Sie ermöglichen damit eine langfristige Unterrichtsplanung.

Neu seit dem Abitur 2014 ist zudem die Wahlmöglichkeit für die zu bearbeitenden Prüfungsaufgaben durch die Schülerinnen und Schüler. In den naturwissenschaftlichen Fächern und in Informatik werden jeweils drei Aufgaben vorgelegt, von denen die Schülerinnen und Schüler zwei zur Bearbeitung auswählen.

Auf den nachfolgenden Seiten finden Sie zu Ihrer Orientierung Beispiele für zentrale Prüfungsaufgaben im Fach Informatik, in denen neben der Aufgabenstellung auch der Erwartungshorizont und die zugeordneten Bewertungseinheiten beschrieben sind.

In der Hoffnung, dass die vorliegende Handreichung hilfreich für Sie und Ihre Unterrichtsarbeit ist, wünsche ich Ihnen und Ihren Schülerinnen und Schülern eine erfolgreiche Vorbereitung auf die schriftliche Abiturprüfung.

Den Mitgliedern der Arbeitsgruppe, die diese Handreichung erstellte, danke ich herzlich für die geleistete Arbeit.

Monika Seiffert

1 Regelungen für die schriftliche Abiturprüfung

Die Fachlehrerin, der Fachlehrer erhält **drei** Aufgaben zu folgenden Schwerpunkten:

- Aufgabe I: Objektorientierte Modellierung und Programmierung von Grafiksystemen,
- Aufgabe II: Datensicherheit in verteilten Systemen und
- Aufgabe III: Simulation dynamischer Systeme (grundlegendes Anforderungsniveau) bzw. Intelligente Suchverfahren (erhöhtes Anforderungsniveau).

Die Abiturientin, der Abiturient

- erhält alle drei Aufgaben und wählt aus den Aufgaben II und III eine aus,
- bearbeitet die Aufgabe I und eine der Aufgaben II und III,
- vermerkt auf der Reinschrift, welche Aufgabe sie/er bearbeitet hat,
- ist verpflichtet, die Vollständigkeit der vorgelegten Aufgaben vor Bearbeitungsbeginn zu überprüfen (Anzahl der Blätter, Anlagen usw.).

Arbeitszeit: Grundlegendes Anforderungsniveau: **240** Minuten
Erhöhtes Anforderungsniveau: **300** Minuten

Eine Auswahlzeit von maximal **30** Minuten kann der Arbeitszeit vorgeschaltet werden. In dieser Zeit darf noch nicht mit der Lösung der Aufgaben begonnen werden.

Hilfsmittel: Taschenrechner (nicht programmierbar, nicht grafikfähig), zugelassene Formelsammlung, Rechtschreibwörterbuch, aktuelle Datenschutzgesetze, ggf. IuKDG

Die in den zentralen schriftlichen Abituraufgaben verwendeten **Operatoren** (Arbeitsaufträge) werden im Anhang genannt und erläutert.

Grundlage der schriftlichen Abiturprüfung 2019 ist der aktuell geltende Rahmenplan Informatik, gymnasiale Oberstufe, mit den nachfolgenden curricularen Vorgaben, Konkretisierungen und Schwerpunktsetzungen.

Programmierparadigmen und -sprachen

Auf **grundlegendem Anforderungsniveau** wird nur die Vertrautheit mit einer Programmiersprache erwartet, die sich sowohl für Implementationen nach dem objektorientierten Paradigma als auch nach dem imperativen Paradigma eignet. Alternativ kann dafür **Python oder Java** gewählt werden.

Auf **erhöhtem Anforderungsniveau** wird die Vertrautheit mit dem objektorientierten, imperativen und funktionalen Paradigma sowie mit Implementationen in **Java und Scheme oder Haskell** erwartet.

2 Liste der Operatoren

Mehr noch als bei dezentralen Aufgaben, die immer im Kontext gemeinsamer Erfahrungen der Lehrkräfte und Schüler mit vorherigen Klausuren stehen, müssen zentrale Prüfungsaufgaben für die Abiturientinnen und Abiturienten eindeutig hinsichtlich des Arbeitsauftrages und der erwarteten Leistung formuliert sein. Die in den zentralen schriftlichen Abituraufgaben verwendeten Operatoren (Arbeitsaufträge) werden in der folgenden Tabelle definiert und inhaltlich gefüllt. Entsprechende Formulierungen in den Klausuren der Studienstufe sind ein wichtiger Teil der Vorbereitung der Schülerinnen und Schüler auf das Abitur.

Neben Definitionen für die Operatoren enthält die Tabelle auch Zuordnungen zu den Anforderungsbereichen (AB) I, II und III, wobei die konkrete Zuordnung auch vom Kontext der Aufgabenstellung abhängen kann und eine scharfe Trennung der Anforderungsbereiche nicht immer möglich ist.

Operatoren	AB	Definitionen
analysieren, untersuchen	II–III	Unter gezielten Fragestellungen Elemente und Strukturmerkmale herausarbeiten und als Ergebnis darstellen
angeben, nennen	I	Elemente, Sachverhalte, Begriffe oder Daten ohne nähere Erläuterungen wiedergeben oder aufzählen
anwenden, übertragen	II	Einen bekannten Sachverhalt, eine bekannte Methode auf eine neue Problemstellung beziehen
auswerten	II	Daten oder Einzelergebnisse zu einer abschließenden Gesamtaussage zusammenführen
begründen	II–III	Einen angegebenen Sachverhalt auf Gesetzmäßigkeiten bzw. kausale Zusammenhänge zurückführen
berechnen	I–II	Ergebnisse von einem Ansatz ausgehend durch Rechenoperationen gewinnen
beschreiben	I–II	Strukturen, Sachverhalte oder Zusammenhänge unter Verwendung der Fachsprache in eigenen Worten veranschaulichen
bestimmen	II	Einen Lösungsweg darstellen und das Ergebnis formulieren
beurteilen	III	Zu einem Sachverhalt ein selbstständiges Urteil unter Verwendung von Fachwissen und Fachmethoden formulieren und begründen
bewerten	III	Eine eigene Position nach ausgewiesenen Normen oder Werten vertreten
darstellen	I–II	Zusammenhänge, Sachverhalte oder Verfahren strukturiert und fachsprachlich einwandfrei wiedergeben oder erörtern
einordnen, zuordnen	I–II	Mit erläuternden Hinweisen in einen Zusammenhang einfügen
entwerfen	II–III	Ein Konzept in seinen wesentlichen Zügen prospektiv/planend erstellen
entwickeln	II–III	Eine Skizze, ein Szenario oder ein Modell erstellen, ein Verfahren erfinden und darstellen, eine Hypothese oder eine Theorie aufstellen
erklären	II–III	Rückführung eines Phänomens oder Sachverhalts auf Gesetzmäßigkeiten
erläutern	II	Ergebnisse, Sachverhalte oder Modelle nachvollziehbar und verständlich veranschaulichen
erörtern	III	Ein Beurteilungs- oder Bewertungsproblem erkennen und darstellen, unterschiedliche Positionen und Pro- und Kontra-Argumente abwägen und mit einem eigenen Urteil als Ergebnis abschließen
herausarbeiten	II–III	Die wesentlichen Merkmale darstellen und auf den Punkt bringen
implementieren	II–III	Das Umsetzen eines Algorithmus oder Software-Designs in einer Programmiersprache
skizzieren	I–II	Sachverhalte, Strukturen oder Ergebnisse kurz und übersichtlich darstellen mithilfe von z. B. Übersichten, Schemata, Diagrammen, Abbildungen, Tabellen
vergleichen, gegenüberstellen	II–III	Nach vorgegebenen oder selbst gewählten Gesichtspunkten Gemeinsamkeiten, Ähnlichkeiten und Unterschiede ermitteln und darstellen
zeichnen	I–II	Eine hinreichend exakte grafische Darstellung anfertigen
zeigen	II–III	Aussage, Ergebnis oder Sachverhalt nach gültigen Regeln durch logische Überlegungen und/oder Berechnungen bestätigen

3 Hinweise zur Bewertung

In der Abiturprüfung sind jeder Aufgabe 50 Bewertungseinheiten (BE) zugeordnet. In allen Teilaufgaben werden nur ganze BE vergeben. Insgesamt sind 100 BE erreichbar. Bei der Festlegung von Notenpunkten gilt die folgende Tabelle:

Erbrachte Leistung (in BE bzw. %)	Notenpunkte	Erbrachte Leistung (in BE bzw. %)	Notenpunkte
≥ 95 %	15	≥ 55 %	7
≥ 90 %	14	≥ 50 %	6
≥ 85 %	13	≥ 45 %	5
≥ 80 %	12	≥ 40 %	4
≥ 75 %	11	≥ 33 %	3
≥ 70 %	10	≥ 27 %	2
≥ 65 %	9	≥ 20 %	1
≥ 60 %	8	< 20 %	0

Für die Erteilung der **Note ausreichend** (5 Punkte) ist mindestens erforderlich, dass die Schülerinnen und Schüler annähernd die Hälfte der erwarteten Gesamtleistung und über den Anforderungsbereich I hinaus Leistungen in einem weiteren Anforderungsbereich erbracht haben. Es ist erforderlich, dass je nach Aufgabenstellung

- Sachverhalte korrekt wiedergegeben und in Teilen korrekt angewendet werden,
- einfache Fachmethoden korrekt beschrieben und in Teilen korrekt angewendet werden,
- vorgegebene Kommunikations- und Darstellungsformen korrekt angewendet werden,
- einfache Bezüge aufgezeigt werden und
- die Darstellung erkennbar geordnet und sprachlich verständlich ist.

Für die Erteilung der **Note gut** (11 Punkte) ist mindestens erforderlich, dass die Schülerinnen und Schüler annähernd vier Fünftel der erwarteten Gesamtleistung sowie Leistungen in allen drei Anforderungsbereichen erbracht haben. Dabei muss die Prüfungsleistung in ihrer Gliederung, in der Gedankenführung, in der Anwendung fachmethodischer Verfahren sowie in der fachsprachlichen Artikulation den Anforderungen voll entsprechen. Es ist erforderlich, dass je nach Aufgabenstellung

- Sachverhalte und Fachmethoden korrekt dargestellt und in abgegrenzten Gebieten korrekt angewendet werden,
- Kenntnisse und Fachmethoden stellenweise zur Lösung von Problemen selbständig herangezogen werden,
- Kommunikations- und Darstellungsformen korrekt angewendet und in Teilen selbständig ausgewählt werden,
- Bezüge hergestellt und Bewertungsansätze wiedergegeben werden und
- die Darstellung in ihrer Gliederung und Gedankenführung klar strukturiert und nachvollziehbar ist sowie den allgemeinen und fachsprachlichen Anforderungen voll entspricht.

Die zwei voneinander unabhängigen Aufgaben der Prüfungsaufgabe werden jeweils mit 50 Bewertungseinheiten bewertet. Die erbrachte Gesamtleistung ergibt sich aus der Summe der Bewertungseinheiten in den beiden Aufgaben.

Bei erheblichen Mängeln in der sprachlichen Richtigkeit und der äußeren Form sind bei der Bewertung der schriftlichen Prüfungsleistung zudem je nach Schwere und Häufigkeit der Verstöße bis zu zwei Notenpunkte abzuziehen. Dazu gehören auch Mängel in der Gliederung, Fehler in der Fachsprache, Ungenauigkeiten in Zeichnungen sowie falsche Bezüge zwischen Zeichnungen und Text.

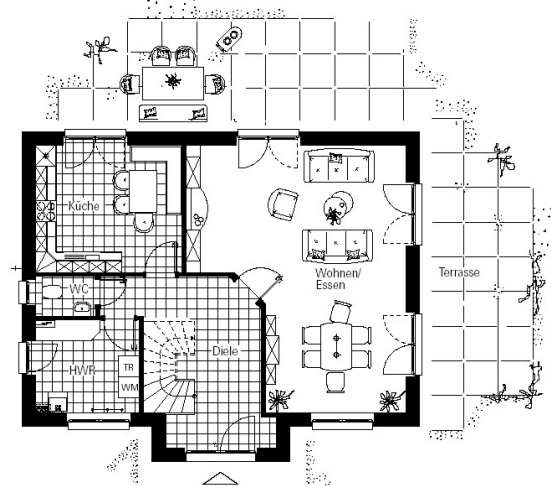
4 Aufgabenbeispiele

4.1 grundlegendes Anforderungsniveau

Aufgabe I: Objektorientierte Modellierung und Programmierung

Hausbau

Es soll ein einfaches CAD-Programm entwickelt werden, das bei der Planung des Baus von Ein- und Zweifamilienhäusern aus Fertigbauelementen hilft. Dieses Programm soll Käufern zur Verfügung gestellt werden, damit sie sich ihr Traumhaus planen können. Dabei müssen die Bauherren jeweils aus einem bestehenden Katalog vorgegebener Elemente auswählen. In dem Katalog sind die Fertigbauelemente enthalten. Es gibt beispielsweise mehrere Außen- und Innenwände, Türen, Fenster und Treppen. Da die Wandelemente auch transportiert werden müssen, gibt es sie in 5 Längen zwischen 2 m und 4 m. Längere Wände müssen aus Teilwänden zusammengesetzt werden.



Die obige Zeichnung zeigt den Grundriss des Erdgeschosses einer zweigeschossigen Wohnung. Sie können aus dieser Zeichnung ersehen, wie beispielsweise Treppen, Türen, Wände und Fenster dargestellt werden.

- a) **Beschreiben** Sie typische Interaktionen des Anwenders mit dem Programm. Entwickeln Sie daraus grundlegende Anforderungen an das Programm. (5 BE)

Ein Programm dieses Umfangs erfordert eine lange Entwicklungszeit. Aus diesem Grund wird für diese Aufgabe nur ein kleiner Bereich betrachtet.

Der Grundriss soll von der zu entwickelnden Anwendung sehr einfach dargestellt werden. So können im Grundriss beispielsweise die Wände nur als senkrechte und waagerechte schmale Rechtecke dargestellt werden. Auf die Inneneinrichtung ist vollständig zu verzichten.


- b) Das nebenstehende Bild zeigt die einfache Darstellung eines Zimmers mit vier Wänden, einer Tür und einem Doppelfenster.

In der Anlage 1 ist das Klassendiagramm abgebildet, auf dessen Grundlage dieses Bild gezeichnet wurde.

- **Erläutern** Sie dieses Diagramm. Gehen Sie dabei insbesondere auf die Beziehungen zwischen den Klassen ein.



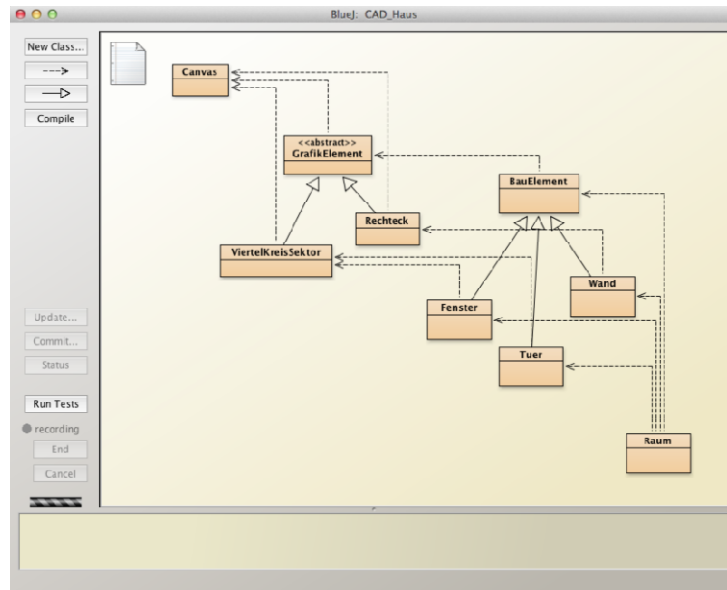
- **Beschreiben** Sie, wie ein Raum aus den gegebenen Bauelementen erzeugt wird.
Geben Sie an, welche **Objekte** benötigt werden, um diesen einfachen Grundriss zu erstellen.
Geben Sie an, welche Nachrichten an die Objekte geschickt werden müssen, um den Grundriss angezeigt zu bekommen. Der Quellcode der Klassen befindet sich in der Anlage 2.
 - Die Anlage 3 enthält die Abbildung der grundlegenden Grafikklassen als UML-Diagramm.
Nennen Sie die für den Anwender wichtigen Eigenschaften der Klassen. (13 BE)
- c) Bei der angegebenen Lösung wird zwischen der senkrechten und waagerechten Anordnung der Bauelemente im Grundriss unterschieden. **Erläutern** Sie die Implementation in der Klasse „BauElement“. Es wird vorgeschlagen statt der gegebenen Implementation die Methoden `setzeSenkrecht()` und `setzeWaagerecht()` zu implementieren und zusätzlich die Methode `istWaagerecht()`, die die Orientierung des Bauelements ermittelt.
Beschreiben Sie die Veränderungen der Klasse `BauElement` und implementieren Sie die notwendigen Methoden.
Bewerten Sie die alte und die neue Lösung. (7 BE)
- d) **Implementieren** Sie für die Klasse `Wand` einen Konstruktor, mit dem eine Wand mit der gewünschten Orientierung, Länge und Dicke an der gewünschten Position erstellt werden kann.
Erläutern Sie den Vorteil einer solchen Lösung. (4 BE)
- e) Die Tür wird im Programm durch einen Viertelkreis dargestellt. Sie soll etwas schöner dargestellt werden, so dass der Wanddurchbruch und die Tür sichtbar werden wie im nebenstehenden Bild. Verwenden Sie die bestehenden Klassen `Rechteck` und `ViertelKreisSektor`.
Passen Sie die Klasse `Tür` so an, dass das angegebene Bild entsteht. Erläutern Sie die Planung und Durchführung dazu. (10 BE)



- f) Es wird vorgeschlagen, die Klasse `BauElement` von der Klasse `GraphikElement` erben zu lassen.
Bewerten Sie diesen Vorschlag. (5 BE)
- g) Alle Wände eines Zimmers müssen gemeinsam verwaltet werden. In Java kann dies mit Hilfe einer `ArrayList` implementiert werden.
Beschreiben Sie das Konzept der `ArrayList` und ihre Verwendung in diesem Fall. (6 BE)

Anlage 1 zur Aufgabe „Hausbau“, Aufgabenteil b)

Klassendiagramm



Anlage 2 zur Aufgabe „Hausbau“, Aufgabenteil c)

Quellcode der Klassen

- BauElement
- Fenster
- Tuer
- Wand
- Raum

```

2 import java.util.*;
3
4 /**
5  * Die Klasse BauElement erzeugt ein grundlegendes BauElement
6  * Es wird mittig auf der Zeichenflaeche angeordnet.
7  */
8 public class BauElement
9 {
10     public static final boolean WAAGERECHT = true;
11     public static final boolean SENKRECHT = false;
12
13     private ArrayList<GrafikElement> grafikElemente;
14     private boolean orientierung;
15
16     /**
17      * Konstruktor der Klasse BauElement
18      */
19     public BauElement()
20     {
21         // initialise instance variables
22         this.grafikElemente = new ArrayList<GrafikElement>();
23     }

```

Beispielaufgaben für die schriftliche Abiturprüfung im Fach Informatik

```
24  /**
25   * ergaenzeGrafikElement fuegt ein GraphikElement der Klasse BauElement
26   * der Darstellung des Bauelements hinzu.
27   *
28   * @param grafikElement GrafikElement
29   */
30  public void ergaenzeGrafikElement(GrafikElement grafikElement)
31  {
32      this.grafikElemente.add(grafikElement);
33  }
34
35  /**
36   * setzeOrientierung setzt die Orientierung des GrafikElements
37   *
38   * @param boolean    WAAGERECHT = true, SENKRECHT = false
39   */
40  public void setzeOrientierung(boolean orientierung)
41  {
42      this.orientierung = orientierung;
43  }
44
45  /**
46   * holeOrientierung bestimmt die Orientierung des GrafikElements
47   *
48   * @param boolean    WAAGERECHT = true, SENKRECHT = false
49   */
50  public boolean holeOrientierung()
51  {
52      return this.orientierung;
53  }
54
55  /**
56   * verschiebe verschiebt das BauElement um den angegebenen Wert
57   *
58   * @param xAbstand, yAbstand  Verschiebung in Pixel
59   */
60  public void verschiebe(int xAbstand, int yAbstand)
61  {
62      GrafikElement grafikElement;
63      for (GrafikElement grafikElement:grafikElemente)
64      {
65          grafikElement = it.next();
66          grafikElement.bewegeHorizontal(xAbstand);
67          grafikElement.bewegeVertikal(yAbstand);
68      };
69  }
70
71  /**
72   * zeichne zeichnet
73   */
74  public void zeichne()
75  {
76      for (Iterator<GrafikElement> it = this.grafikElemente.iterator(); it.hasNext();)
77      {
78          it.next().macheSichtbar();
79      };
80  }
81  }
82
```

Beispielaufgaben für die schriftliche Abiturprüfung im Fach Informatik

```
/**
84  * Fenster
   * Ein Klasse für Doppelfenster
86  *
   */
88  public class Fenster extends BauElement
   {
89      private int groesse;
90      private String farbe;
91      private ViertelKreisSektor formLinks;
92      private ViertelKreisSektor formRechts;
93
94      /**
95       * Konstruktor der Klasse Fenster
96       */
97      public Fenster()
98      {
99          // initialise instance variables
100         this.groesse = 100;
101         this.farbe = "gray";
102         this.formLinks = new ViertelKreisSektor();
103         this.formRechts = new ViertelKreisSektor();
104         this.formLinks.aendereGroesse(this.groesse / 2);
105         this.formRechts.aendereGroesse(this.groesse / 2);
106         this.formRechts.aendereQuadrant(2);
107         this.formRechts.bewegeHorizontal(this.groesse / 2);
108         this.formLinks.bewegeHorizontal(-this.groesse / 2);
109         this.formRechts.aendereFarbe(this.farbe);
110         this.formLinks.aendereFarbe(this.farbe);
111         ergaenzeGrafikElement(formRechts);
112         ergaenzeGrafikElement(formLinks);
113     }
114 }
115
116 /**
117  * Tuer
118  * Nur Tueren mit Anschlag rechts
119  * Sie können horizontal oder vertikal angeordnet sein.
120  * Sie können nach oben und unten bzw. rechts und links
121  * geöffnet werden.
122  *
123  */
124  public class Tuer extends BauElement
125  {
126      // Konstanten
127      public static final boolean LINKS = true;
128      public static final boolean RECHTS = false;
129      public static final boolean OBEN = false;
130      public static final boolean UNTEN = true;
131
132      // instance variables - replace the example below with your own
133      private int groesse;
134      private boolean oeffnung;
135      private String farbe;
136      private ViertelKreisSektor form;
137
138  }
```

Beispielaufgaben für die schriftliche Abiturprüfung im Fach Informatik

```
140  /**
141     * Konstruktor der Klasse Tuer
142     */
143  public Tuer()
144  {
145      // initialise instance variables
146      this.groesse = 50;
147      this.farbe = "gray";
148      this.form = new ViertelKreisSektor();
149      this.form.aendereGroesse(this.groesse);
150      setzeOrientierung(BauElement.SENKRECHT, RECHTS);
151      ergaenzeGrafikElement(form);
152  }
153
154  /**
155   * setzeOrientierung setzt die Orientierung der Tuer
156   *
157   * @param orientierung boolean    WAAGERECHT = true, SENKRECHT = false
158   * @param oeffnung    boolean    LINKS | UNTEN = true, RECHTS | OBEN = false
159   */
160  public void setzeOrientierung(boolean orientierung, boolean oeffnung)
161  {
162      setzeOrientierung(orientierung);
163      this.oeffnung = oeffnung;
164      setzeTuer();
165  }
166
167  /*
168   * Setzt die Groesse der Form aus den Angaben der Wand.
169   */
170  private void setzeTuer( )
171  {
172      if (holeOrientierung() == SENKRECHT && this.oeffnung == RECHTS)
173      {
174          this.form.aendereQuadrant(4);
175      }
176      else if (holeOrientierung() == SENKRECHT && this.oeffnung == LINKS)
177      {
178          this.form.aendereQuadrant(2);
179      }
180      else if (holeOrientierung() == WAAGERECHT && this.oeffnung == OBEN)
181      {
182          this.form.aendereQuadrant(1);
183      }
184      else if (holeOrientierung() == WAAGERECHT && this.oeffnung == UNTEN)
185      {
186          this.form.aendereQuadrant(3);
187      }
188  }
189  }
```

Beispielaufgaben für die schriftliche Abiturprüfung im Fach Informatik

```
192  /**
    * Wand
    *
194  */
public class Wand extends BauElement
196  {
    private int dicke;
198  private int laenge;
    private String farbe;
200  private Rechteck form;

202  /**
    * Konstruktor der Klasse Wand
204  */
    public Wand()
206  {
        this.dicke = 10;
208  this.laenge = 200;
        this.farbe = "black"; // Waende sind immer schwarz
210  this.form = new Rechteck();
        this.form.aendereFarbe(this.farbe);
212  this.form.bewegeDiagonal(-this.dicke / 2, -this.dicke / 2);
        setzeOrientierung(BauElement.SENKRECHT);
214  setzeWand();
        ergaenzeGrafikElement(form);
216  }

218  /**
    * setzeOrientierung setzt die Orientierung der Wand
220  *
    * @param boolean WAAGERECHT = true, SENKRECHT = false
222  */
    public void setzeOrientierung(boolean orientierung)
224  {
        super.setzeOrientierung(orientierung);
226  setzeWand();
    }

228  /*
230  * Setzt die Groesse der Form aus den Angaben der Wand.
    */
232  private void setzeWand( )
    {
234  if (holeOrientierung())
        {
236  this.form.aendereGroesse(this.laenge + this.dicke, this.dicke);
        }
238  else
        {
240  this.form.aendereGroesse(this.dicke, this.laenge + this.dicke);
        }
242  }
    }
244  }
```

Beispielaufgaben für die schriftliche Abiturprüfung im Fach Informatik

```
246  /**
     * Die Klasse Raum
248  * Es wird ein Raum zusammengestellt und auf der Zeichenfläche gezeichnet.
     */
250  public class Raum
     {
252      private Wand[] wand;
         private Tuer tuer;
254         private Fenster fenster;

256         /**
             * Konstruktor der Klasse Raum
258         */
         public Raum()
         {
260             wand = new Wand[4];
262             for (int i = 0; i < 4; i++)
                 {
264                 this.wand[i]= new Wand();
                 }
266             this.wand[1].setzeOrientierung(BauElement.WAAGERECHT); // Standard ist Senkrecht
                 this.wand[3].setzeOrientierung(BauElement.WAAGERECHT);
268             this.wand[0].verschiebe(-100,-100);
                 this.wand[1].verschiebe(-100,-100);
270             this.wand[2].verschiebe(100,-100);
                 this.wand[3].verschiebe(-100,100);

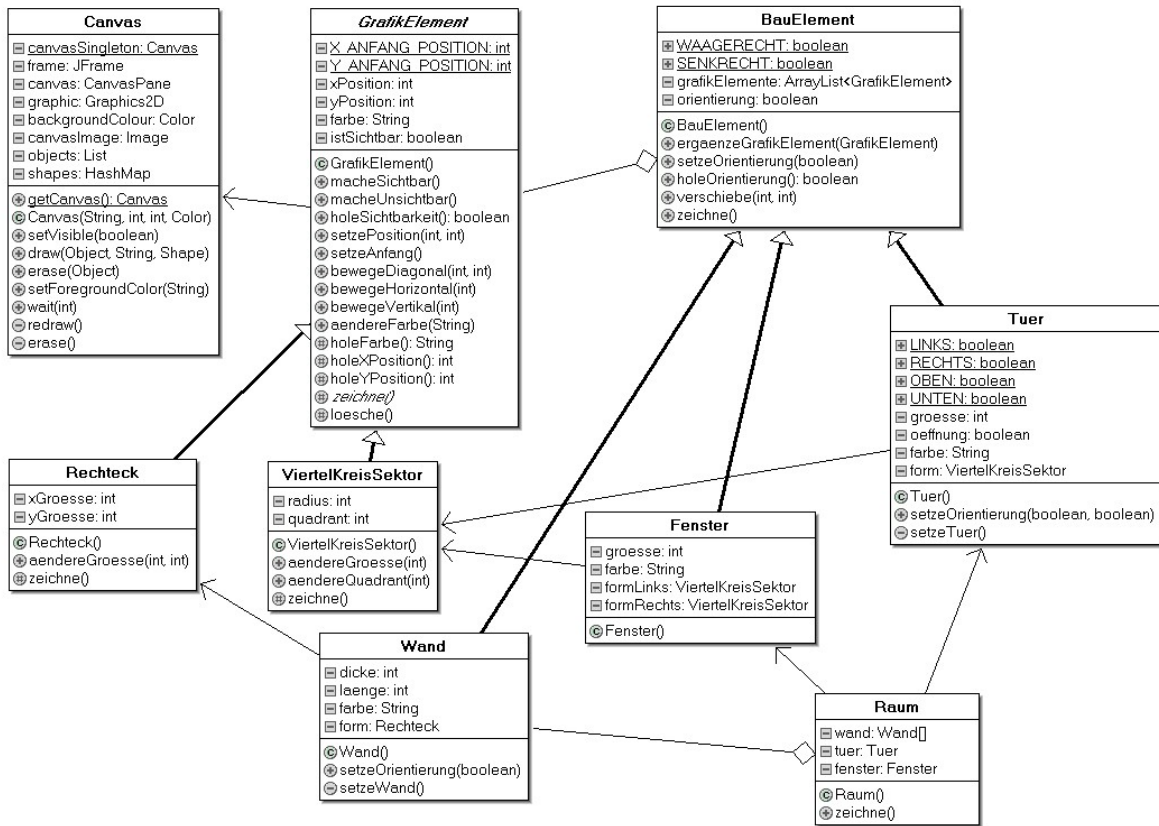
272             this.tuer = new Tuer();
274             this.tuer.verschiebe(-20,-100);
                 this.tuer.setzeOrientierung(BauElement.WAAGERECHT, Tuer.UNTEN);

276             this.fenster = new Fenster();
278             this.fenster.verschiebe(0,100);
         }

280         /**
             * zeichne()
             *
282         * Zeichnet den vollständigen Raum auf der Zeichenflaeche
             */
286         public void zeichne()
         {
288             for (int i = 0; i < 4; i++)
                 {
290                 this.wand[i].zeichne();
                 }
292             this.tuer.zeichne();
                 this.fenster.zeichne();
294         }
     }
```

Anlage 3 zur Aufgabe „Hausbau“, Aufgabenteil d)

UML-Diagramm



Erwartungshorizont

	Lösungsskizze	Zuordnung, Bewertung		
		I	II	III
a)	<p>Der Anwender erstellt Geschosse, wählt, positioniert, verschiebt, dreht, löscht Bauelemente, er lässt den Plan zeichnen, er lässt den Preis des Hauses kalkulieren, er speichert und öffnet Varianten. Das Programm muss den Plan speichern und öffnen können. Objekte müssen markiert, Eigenschaften müssen geändert werden können. Elemente müssen aus Listen ausgewählt werden können. Für den Kunden wäre es zusätzlich hilfreich, wenn er mit dem Programm die Kosten kalkulieren könnte.</p>	5		
b)	<p>Es handelt sich um ein Klassendiagramm. In diesem Diagramm ist oben links die Klasse des Canvas angegeben. Diese Klasse wird von den grundlegenden Zeichenklassen ViertelKreisSektor, Rechteck und GrafikElement benutzt. GrafikElement ist <abstract>, d.h. von ihr kann kein Objekt erzeugt werden. Dabei sind Rechteck und ViertelKreisSektor Spezialfälle der Klasse GrafikElement. Diese Klassen werden von BauElement, Fenster, Tür und Wand genutzt. Auch hier wird eine allgemeine Klasse vorgegeben von der die Spezialfälle Fenster, Tuer und Wand abgeleitet werden. Die Klasse Raum nutzt die Klassen Fenster, Tuer und Wand.</p> <p>Es treten die folgenden Beziehung auf: Ist Spezialfall von: beispielsweise Rechteck / Grafikelement Benutzt: beispielsweise Tuer / ViertelKreisSektor Teil-/Ganzes: beispielsweiseRaum / Fenster, Tuer, Wand</p> <p>Aus den Klassen werden die notwendigen Objekte erzeugt. Insgesamt werden vier Objekte für die Wände, ein Objekt für die Tür und eines für das Fenster benötigt. Anschließend werden an die Objekte die Nachrichten mit den gewünschten Größen, Orientierungen und Positionen geschickt. Im letzten Schritt werden die Objekte gezeichnet.</p> <p>Objekte: Wand1 bis Wand4; Tuer Fenster</p> <p>Nachrichten: setzeOrientierung(BauElement.WAAGERECHT); verschiebe(-100,-100); zeichne());</p> <p>Die Bauelemente enthalten Information über die Farbe, die Form und die Ausrichtung. Die Position wird von der Form verwaltet. Die Form kann aus mehreren Grafikelementen bestehen.</p> <p>Die Formen können verschoben werden, die Orientierung kann geändert werden. Das Bauelement kann gezeichnet werden. Nicht geändert werden kann die Farbe.</p> <p>(Großer Nachteil: Die gegebene Lösung unterstützt unsinnige Konstruktionen.)</p>	9	4	

	Lösungsskizze	Zuordnung, Bewertung		
		I	II	III
c)	<pre> /** * setzeSenkrecht setzt die senkrechte Bauelements */ public void setzeSenkrecht() { this.orientierung = SENKRECHT; } /** * setzeWaagerecht setzt die waagerechte Bauelements */ public void setzeWaagerecht() { this.orientierung = WAAGERECHT; } /** * istWaagerecht ermittelt, ob Bauelements waagerecht */ public boolean istWaagerecht() { return this.orientierung; } </pre> <p>Es müssen drei Methoden eingefügt werden, die die entsprechenden Werte setzen. Die Lösung ist die Bessere, der Anwender muss weniger Detail über die Implementierung der Klasse wissen. Die Parameter sind überflüssig. Es gilt: Multifunktionale Methoden sind zu vermeiden. Klare, eindeutige Strukturen sind vorzuziehen. Fehler können so vermieden werden.</p>		5	2
d)	<pre> /** * Konstruktor der Klasse Wand * * @param dicke Dicke der Wand in Pixeln, Werte 6, 10 * @param laenge Laenge der Wand in Pixeln, Werte 100, 200, 300 * @param orientierung WAAGERECHT = true, SENKRECHT = false * @param xPosition in Pixeln. 0,0 mittig * @param yPosition in Pixeln. 0,0 mittig */ public WandMitKonstruktor(int dicke, int laenge, boolean orientierung, int xPosition, int yPosition) { this.dicke = dicke; this.laenge = laenge; this.farbe = "black"; this.form = new Rechteck(); this.form.aendereFarbe(this.farbe); this.form.bewegeDiagonal(-this.dicke / 2, -this.dicke / 2); setzeOrientierung(orientierung); this.form.bewegeDiagonal(xPosition, yPosition); setzeWand(); ergaenzeGrafikElement(form); } </pre> <p>Der Vorteil zusätzlicher Konstruktoren besteht in der Möglichkeit, gleich bei der Erzeugung ein Objekt im gewünschten Zustand zu erhalten.</p>		3	1
e)	<p>Tuer setzt sich nun aus drei Elementen zusammen, d. h. es werden zusätzlich zwei dickere Linien benötigt. Dabei ist es möglich die Linien übereinander zu legen, dann muss die genaue Reihenfolge eingehalten werden, oder es werden zwei Linien nebeneinander gelegt.</p> <pre> /** * Türen * Nur Türen mit Anschlag rechts * Sie können horizontal oder vertikal angeordnet sein. * Sie können nach oben und unten bzw. rechts und links * geöffnet werden. */ </pre>			

Beispielaufgaben für die schriftliche Abiturprüfung im Fach Informatik

	Lösungsskizze	Zuordnung, Bewertung		
		I	II	III
	<pre> public class Tuer2 extends BauElement { // Konstanten public static final boolean LINKS = true; public static final boolean RECHTS = false; public static final boolean OBEN = false; public static final boolean UNTEN = true; private int groesse, dickeWand, dickeTuer; private boolean oeffnung; private String farbel, farbeDurchbruch, farbeTuer; private ViertelKreisSektor form; private Rechteck formDurchbruch; private Rechteck formTuer; /** * Konstruktor fuer Klasse Tuer2 */ public Tuer2() { this.groesse = 50; this.dickeWand = 10; this.dickeTuer = 5; this.farbel = "gray"; this.farbeDurchbruch = "green"; this.farbeTuer = "black"; this.form = new ViertelKreisSektor(); this.form.aendereGroesse(this.groesse); this.formDurchbruch = new Rechteck(); this.formDurchbruch.aendereFarbe(this.farbeDurchbruch); this.formTuer = new Rechteck(); this.formTuer.aendereFarbe(this.farbeTuer); setzeOrientierung(BauElement.SENKRECHT, RECHTS); ergaenzeGrafikElement(form); ergaenzeGrafikElement(formDurchbruch); ergaenzeGrafikElement(formTuer); } /** * setzeOrientierung setzt die Orientierung der Tuer * @param orientierung boolean WAAGERECHT = true, SENKRECHT = false * @param oeffnung boolean LINKS UNTEN = true, RECHTS OBEN = false */ public void setzeOrientierung(boolean orientierung, boolean oeffnung) { this.form.setzeAnfang(); this.formDurchbruch.setzeAnfang(); this.formTuer.setzeAnfang(); setzeOrientierung(orientierung); this.oeffnung = oeffnung; setzeTuer(); } private void setzeTuer() { if (holeOrientierung() == SENKRECHT) { this.formDurchbruch.aendereGroesse(this.dickeWand, this.groesse); this.formTuer.aendereGroesse(this.dickeTuer, this.groesse); } else { this.formDurchbruch.aendereGroesse(this.groesse, this.dickeWand); this.formTuer.aendereGroesse(this.groesse, this.dickeTuer); } if (holeOrientierung() == SENKRECHT && this.oeffnung == RECHTS) { this.form.aendereQuadrant(4); this.form.bewegeHorizontal(this.dickeWand / 2); this.formDurchbruch.bewegeHorizontal(-this.dickeWand / 2); } } } </pre>			

Beispielaufgaben für die schriftliche Abiturprüfung im Fach Informatik

	Lösungsskizze	Zuordnung, Bewertung		
		I	II	III
	<pre> this.formTuer.bewegeHorizontal(0); } else if (holeOrientierung() == SENKRECHT && this.oeffnung == LINKS) { this.form.aendereQuadrant(2); this.form.bewegeHorizontal(-this.dickeWand / 2); this.formDurchbruch.bewegeHorizontal(-this.dickeWand / 2); this.formTuer.bewegeHorizontal(-this.dickeWand / 2); this.formDurchbruch.bewegeVertikal(-this.groesse); this.formTuer.bewegeVertikal(-this.groesse); } else if (holeOrientierung() == WAAGERECHT && this.oeffnung == OBEN) { this.form.aendereQuadrant(1); this.form.bewegeVertikal(-this.dickeWand / 2); this.formDurchbruch.bewegeVertikal(-this.dickeWand / 2); this.formTuer.bewegeVertikal(-this.dickeWand / 2); } else if (holeOrientierung() == WAAGERECHT && this.oeffnung == UNTEN) { this.form.aendereQuadrant(3); this.formDurchbruch.bewegeHorizontal(-this.groesse); this.formTuer.bewegeHorizontal(-this.groesse); this.form.bewegeVertikal(this.dickeWand / 2); this.formDurchbruch.bewegeVertikal(-this.dickeWand / 2); this.formTuer.bewegeVertikal(0); } } } </pre>		6	4
f)	<p>Vorteil: Redundante Elemente werden vermieden, da man Bauelement in der aktuellen Lösung leicht so ändern kann, dass es genau die Methoden von GrafikElement nutzt und sie deshalb nicht neu implementieren muss, dies ist aber ein vordergründiges Kriterium.</p> <p>Nachteil: bei Erweiterung ist die Gefahr sehr groß, zu einer inkonsistenten Hierarchie zu kommen. Vererbung ist nur erlaubt, wenn gilt: Klasse A ist eine Spezialisierung der Klasse B. Dies ist in für die Klassen BauElement und GrafikElement nicht gegeben.</p> <p>Dabei gilt Spezialisierung nur in der Weise, dass es zu einer Erweiterung kommt, es darf keine Einengung vorliegen (Kreis-Ellipsen-Dilemma, Bertrand Meyer).</p> <p>Hier sollen beispielsweise die Bauelemente nur ganz bestimmte Farben haben, diese Farbe ist in der Klasse vorgegeben. Eine spätere Farbänderung ist nicht vorgesehen. Würde man BauElement von GrafikElement erben lassen, führt dies dazu, dass nachträglich die Farbe des Bauelements gesetzt werden kann, da von GrafikElement eine Methode geerbt wird, mit der die Farbe geändert werden kann.</p> <p>GrafikElement ist in der Regel flexibler als dies für die Bauelemente notwendig ist. Bei einer Modellierung mit Vererbung ist es nur trickreich möglich, diese Flexibilität zu unterbinden. Stichworte: Liskov-Prinzip, Kreis-Ellipsen-Dilemma. Aus diesen Gründen ist Delegation vorzuziehen.</p>		2	3
g)	<p>Es könnte das Array oder eine Collection: LinkedList, ArrayList, Vector verwendet werden.</p> <p>Ein Array vom Typ BauElement ist die einfachste Form, aber statisch. Das Programm legt die maximale Anzahl von Elementen fest. Der Zugriff auf die einzelnen Elemente des Feldes erfolgt über einen Index. In Arrays können auch einfache Datentypen gespeichert werden. – Hier haben sie auch ihre Berechtigung.</p> <p>Für Klassen sollte eine Collection eingesetzt werden. Collections sind flexibler und können nur Objekte enthalten. Einfache Datentypen müssten mit einem »Wrapper« eingepackt werden. Die Anzahl der enthaltenen Elemente passt sich während der Programmlaufzeit an die Erfordernisse an. Der Zugriff auf die Elemente der Collection erfolgt über einen Iterator. Beide Elemente sind in der Java-Bibliothek enthalten.</p>			

Beispielaufgaben für die schriftliche Abiturprüfung im Fach Informatik

	Lösungsskizze	Zuordnung, Bewertung		
		I	II	III
	Eine LinkedList könnte die Reihenfolge aneinander gefügter Elemente wiedergeben.			
	<pre> import java.util.*; /** * Klasse Raum * erstellt einen Raum aus gegebenen Elementen und lässt den * Grundriss auf der Leinwand zeichnen. */ public class RaumMitNeuerTuer { private ArrayList<BauElement> bauElemente; /** * Konstruktor der Klasse Raum */ public RaumMitNeuerTuer() { this.bauElemente = new ArrayList<BauElement>(); Wand wand; for (int i = 0; i < 4; i++) { this.bauElemente.add(new Wand()); } this.bauElemente.get(1).setzeOrientierung(BauElement.WAAGERECHT); this.bauElemente.get(3).setzeOrientierung(BauElement.WAAGERECHT); this.bauElemente.get(0).verschiebe(-100,-100); this.bauElemente.get(1).verschiebe(-100,-100); this.bauElemente.get(2).verschiebe(100,-100); this.bauElemente.get(3).verschiebe(-100,100); Tuer2 tuer = new Tuer2(); this.bauElemente.add(tuer); tuer.setzeOrientierung(BauElement.WAAGERECHT, Tuer.UNTEN); tuer.verschiebe(-30,-100); tuer = new Tuer2(); this.bauElemente.add(tuer); tuer.setzeOrientierung(BauElement.SENKRECHT, Tuer.LINKS); tuer.verschiebe(-100,0); tuer = new Tuer2(); this.bauElemente.add(tuer); tuer.setzeOrientierung(BauElement.SENKRECHT, Tuer.RECHTS); tuer.verschiebe(100,0); tuer = new Tuer2(); this.bauElemente.add(tuer); tuer.setzeOrientierung(BauElement.WAAGERECHT, Tuer.OBEN); tuer.verschiebe(0,100); } /** * zeichne() */ public void zeichne() { for (Iterator<BauElement> it = this.bauElemente.iterator(); it.hasNext();) { it.next().zeichne(); } } /** * zeichne1() */ public void zeichne1() { for (BauElement bauElement:bauElemente) { bauElement.zeichne(); } } } </pre>		3	3
	Insgesamt 50 BE	14	23	13

Aufgabe II: Datensicherheit in verteilten Systemen

Bewerbungen

Wiebold Wichtig, der Leiter der Personalabteilung von *ZukunftPlus*, möchte zukünftig Bewerbungen auch per E-Mail entgegennehmen. Auf der Homepage der Firma werden die jeweils nötigen Informationen (Telefonnummern, E-Mail-Adressen, öffentlicher Schlüssel für das RSA-Verfahren) bekannt gegeben.

Es gibt vier Vorschläge für die praktische Umsetzung:

- Vorschlag A sieht keinerlei weitere Einschränkungen vor.
 - Bei Vorschlag B wird ein symmetrisches Verschlüsselungsverfahren (z. B. DES) verwendet. Die einzelnen Bewerber müssen sich telefonisch mit dem Sekretariat der Personalabteilung in Verbindung setzen, damit ein Schlüsselaustausch nach Diffie-Hellman durchgeführt werden kann (*siehe Material 2*).
 - Vorschlag C nutzt ein asymmetrisches Verschlüsselungsverfahren (RSA). Der Bewerber erhält den öffentlichen Schlüssel der Firma.
 - Bei Vorschlag D verschlüsselt der Bewerber seine Unterlagen nach dem RSA-Verfahren mit seinem eigenen privaten Schlüssel.
- a) **Geben** Sie **an**, welche Aufgaben Protokolle haben, und erläutere dies anhand der Anlage 1. (7 BE)
- b) **Beschreiben** Sie, was man unter *symmetrischen* und *asymmetrischen* Verschlüsselungsverfahren versteht. (6 BE)
- c) **Zeigen** Sie, dass mit den Werten $p = 23$, $s = 11$, $a = 3$ und $b = 2$ bei dem *Schlüsselaustausch* nach Diffie-Hellman (*siehe Anlage 2*) die beiden beteiligten Personen den gleichen Wert für den Schlüssel k erhalten. (9 BE)
- d) **Erklären** Sie, warum der Begriff „Schlüsselaustausch“ irreführend ist. (4 BE)

Beim RSA-Verfahren sind zwei Angaben öffentlich bekannt (n und e) und beim Schlüsselaustausch nach Diffie-Hellman sogar vier verschiedene (p , s , α und β).

- e) **Stellen** Sie **dar**, worauf beim Schlüsselaustausch und beim RSA-Verfahren die relativ hohe Sicherheit basiert, obwohl zwei bzw. vier Angaben öffentlich bekannt sind. (6 BE)
- f) **Beschreiben** Sie, was man unter Vertraulichkeit, Integrität und Authentizität im Zusammenhang mit dem Austausch von Nachrichten versteht. (6 BE)
- g) **Bewerten** Sie die vier Vorschläge. **Entwickeln** Sie gegebenenfalls einen eigenen Vorschlag. Arbeite dabei auch heraus, welche stillschweigenden Annahmen bei der Formulierung der Vorschläge gemacht wurden. (12 BE)

Anlage 1 zur Aufgabe „Bewerbungen“, Aufgabenteil a)

Simple Mail Transfer Protocol (Beispiel)

Direkt nach dem Verbindungsaufbau über TCP meldet sich der Mailserver.

```
CLIENT                                SERVER
                                         220 mail.example.com SMTP Foo Mailserver
HELO mail.example.org
                                         250 Ok
MAIL FROM: hans.muster@example.org
                                         250 Ok
RCPT TO: foo@example.com
                                         250 Ok
DATA
                                         354 End data with .
From: hans.muster@example.org
To: foo@example.com
Subject: Testmail
Date: Fri, 16 Dez 2010 13:10:50 +0200

Testmail
.
                                         250 Ok
QUIT
                                         221 Bye
```

Anlage 2 zur Aufgabe „Bewerbungen“, Aufgabenteil c)

Schlüsselaustausch nach Diffie-Hellmann

Der von Whitfield Diffie und Martin Hellmann entwickelte Algorithmus zur Bestimmung eines gemeinsamen Schlüssels läuft über drei Stufen.

Die beiden beteiligten Personen, nennen wir sie mal Alice und Bob, einigen sich auf eine (große) Primzahl p und eine beliebige Zahl s ($1 < s < p$). Diese beiden Zahlen können über einen unsicheren Kanal ausgetauscht werden; sie sind also als öffentlich bekannt anzusehen.

Alice und Bob wählen außerdem jeweils eine Zahl a bzw. b - ihre privaten geheimen Zahlen. Die Zahlen $\alpha = s^a \bmod p$ und $\beta = s^b \bmod p$ werden wieder über einen unsicheren Kanal ausgetauscht. Für etwaige Angreifer sind also insgesamt vier Zahlen frei verfügbar.

Alice verwendet β und Bob α für die weiteren Berechnungen:

$$k_{\text{Alice}} = \beta^a \bmod p \text{ und } k_{\text{Bob}} = \alpha^b \bmod p.$$

Die von Alice und Bob berechneten Zahlen k sind – wie man leicht zeigen kann – gleich und können im Weiteren als Schlüssel für ein beliebiges symmetrisches Verfahren verwendet werden.

Erwartungshorizont

	Lösungsskizze	Zuordnung, Bewertung								
		I	II	III						
a)	<p>Protokolle in der Telekommunikation und Informatik sind Regeln, welche das Format, den Inhalt, die Bedeutung und die Reihenfolge gesendeter Nachrichten zwischen verschiedenen Instanzen (der gleichen Schicht) festlegen. Diese Protokolle regeln den Ablauf, und stellen gleichzeitig dessen Dokumentation sicher.</p> <p>Mit HELO und QUIT wird die Sitzung gestartet bzw. beendet. Die Kommandos FROM (Adresse des Senders), RCPT (Adressen der Empfänger), DATA und der einzelne Punkt müssen in dieser Reihenfolge erscheinen. Der Bereich zwischen DATA und dem einzelnen Punkt umfasst dann die eigentliche E-Mail. Bei allen Kommandos reagiert der Server mit einer Bestätigung (z.B. 250 Ok) oder einer (hier im Beispiel nicht auftretenden) Fehlermeldung.</p>	3	4							
b)	<p>Bei symmetrischen Verschlüsselungsverfahren wird für das Entschlüsseln entweder derselbe Schlüssel verwendet wie für das Verschlüsseln bzw. ein Entschlüsselungsschlüssel, der aus dem Verschlüsselungsschlüssel auf einfache Art bestimmt werden kann. Bei asymmetrischen Verschlüsselungsverfahren werden unterschiedliche Schlüssel für das Ver- und Entschlüsseln verwendet. Von dem Verschlüsselungsschlüssel kann ohne zusätzliche Informationen nicht / sehr schwer auf den Entschlüsselungsschlüssel geschlossen werden.</p>	6								
c)	<table border="1" style="margin-left: auto; margin-right: auto;"> <thead> <tr> <th>Person 1 (Alice)</th> <th>Person 2 (Bob)</th> </tr> </thead> <tbody> <tr> <td>$\alpha = 11^3 \bmod 23 = 20$</td> <td>$\beta = 11^2 \bmod 23 = 6$</td> </tr> <tr> <td>$k_{Alice} = 6^3 \bmod 23 = 9$</td> <td>$k_{Bob} = 20^2 \bmod 23 = 9$</td> </tr> </tbody> </table> <p>Beide Personen kommen zu demselben Ergebnis.</p>	Person 1 (Alice)	Person 2 (Bob)	$\alpha = 11^3 \bmod 23 = 20$	$\beta = 11^2 \bmod 23 = 6$	$k_{Alice} = 6^3 \bmod 23 = 9$	$k_{Bob} = 20^2 \bmod 23 = 9$		6	3
Person 1 (Alice)	Person 2 (Bob)									
$\alpha = 11^3 \bmod 23 = 20$	$\beta = 11^2 \bmod 23 = 6$									
$k_{Alice} = 6^3 \bmod 23 = 9$	$k_{Bob} = 20^2 \bmod 23 = 9$									
d)	<p>Bei dem Verfahren wird nicht der eigentliche Schlüssel zwischen den beteiligten Personen ausgetauscht, sondern nur Zahlen, mit denen dann jede Person getrennt den gemeinsamen Schlüssel bestimmen kann.</p>			4						
e)	<p>Die Sicherheit wird über große Primzahlen für p bzw. p und q hergestellt. Nach dem derzeitigen Kenntnisstand sind diskrete Exponentialfunktionen (Schlüsselaustausch und Ver- / Entschlüsselung beim RSA-Verfahren) und die Faktorisierung (Schlüsselbestimmung beim RSA-Verfahren) Einwegfunktionen.</p> <p>Bei der Verwendung großer Primzahlen ist der Versuch, die gesuchte Information beispielsweise durch Ausprobieren herauszubekommen, mit einem vertretbaren Aufwand nicht / sehr schwer zu erreichen.</p>	2	4							
f)	<p>Vertraulichkeit: Die Nachricht wird so verändert, dass nur der berechtigte Empfänger in der Lage ist, die Nachricht zu verstehen.</p> <p>Integrität: Die Nachricht kann nicht unbemerkt von einem Dritten verändert werden.</p> <p>Authentizität: Die Nachricht stammt eindeutig von einem bestimmten Teilnehmer.</p>	4	2							

	Lösungsskizze	Zuordnung, Bewertung		
		I	II	III
g)	<p>Vorschlag A setzt nur voraus, dass der Bewerber ein eigenes E-Mail-Konto besitzt. Bei Vorschlag B, C und D muss der Bewerber Programme zum Versenden von E-Mails benutzen, bei denen die Verschlüsselung mit Hilfe von DES bzw. RSA möglich ist. Bei Vorschlag D kommt hinzu, dass der Bewerber selbst ein über ein Schlüsselpaar verfügt.</p> <p>Vorschlag A bietet keinen Schutz der übertragenen Daten.</p> <p>Vorschlag B verwendet ein schnelles Verschlüsselungsverfahren. Aufwändig ist der Schlüsselaustausch mit dem Sekretariat. Vertraulichkeit, Integrität und Authentizität sind gewährleistet.</p> <p>Vorschlag C verwendet ein langsames Verschlüsselungsverfahren. Der Bewerber muss keinen weiteren direkten Kontakt mit dem Unternehmen herstellen. Die Authentizität des öffentlichen Schlüssels hängt davon ab, wie gut die Homepage des Unternehmens gegen unberechtigte Veränderungen gesichert ist. Vertraulichkeit ist gewährleistet.</p> <p>Vorschlag D verwendet ein (langsames) Verschlüsselungsverfahren zur Signierung. Die Firma muss den öffentlichen Schlüssel des Bewerbers verwenden. Integrität und Authentizität sind gewährleistet.</p> <p>Die Entscheidung für einen der Vorschläge B, C und D muss gut begründet werden, insbesondere die Abwägung zwischen den jeweiligen Vor- und Nachteilen.</p> <p>Je nach den verwendeten Kriterien für die Bewertung können auch alle Vorschläge als ungeeignet bewertet werden. Dann muss ein entsprechend qualifizierter eigener Vorschlag entwickelt werden.</p>		6	6
	Insgesamt 50 BE	15	22	13

Aufgabe III: Simulation

Beschreibung eines Systems

Das hier zu untersuchende Ökosystem beschreibt ein reales System. Um größere Weideflächen für Schafe zu schaffen, hatte man in New South Wales [Australien] vorhandene Eukalyptuswälder gelichtet. Man achtete darauf, etwa 20 % des Waldbestandes zu erhalten, um eine Versteppung des schon vorhandenen und nun zusätzlich entstehenden Graslandes zu verhindern.

Das System war durch die umliegenden Regionen weitgehend abgeschlossen und die insgesamt von ihm ausgefüllte Fläche allein von Wald oder Grasland bedeckt.

Weiterhin sind zwei für das System wichtige Tierpopulationen vorhanden, die beide sowohl auf das Grasland als auch auf den Wald angewiesen sind. Eine der Tierpopulationen ist eine Insektenpopulation, die das Grasland im Larvenstadium benötigt und sich im Erwachsenenstadium von den Bäumen ernährt. Die andere Tierpopulation ist eine Vogelpopulation, die zum Nisten die Bäume benötigt und sich von den Insekten ernährt.

- a) **Stellen** Sie zu den in den drei folgenden Teilaufgaben jeweils beschriebenen, voneinander unabhängigen Wachstumsvorgängen je ein Wirkungsdiagramm oder ein Flüßediagramm **dar** und **skizzieren** Sie den jeweiligen Verlauf des Zeitdiagramms.

Geben Sie **an**, welche Wachstumsform jeweils vorliegt, und **begründen** Sie Ihre Entscheidung.

- Die Biomasse der Bäume wächst jährlich mit einer konstanten Rate.
- Die Insekten vermehren sich wöchentlich um ein Zehntel (10 %) ihrer Biomasse.
- Die Vögel vermehren sich jährlich entsprechend ihrer vorhandenen Biomasse und der noch zur Verfügung stehenden Kapazität, die durch eine Maximalzahl begrenzt ist. (15 BE)

Der Zuwachs der Biomasse der Bäume wird in der Regel von der vorhandenen Biomasse der Bäume abhängen, gleichzeitig aber durch die zur Verfügung stehende Fläche begrenzt sein. Weiterhin soll der Wald bewirtschaftet werden, indem Teile abgeholzt werden. Die durch Abholzen frei werdende Fläche wird von Grasland eingenommen.

- b) Dieses eingeschränkte Szenario kann durch die folgenden Systemgleichungen beschrieben werden:

Zustandsgleichungen¹

$$\text{Wald_Biomasse_neu} = \text{Wald_Biomasse_alt} + dt \cdot (\text{Zuwachs_Wald} - \text{Abholzung})$$

$$\text{Startwert Wald_Biomasse} = 20$$

Zustandsänderungen

$$\text{Zuwachs_Wald} = \text{ZuwachsRate_Wald} \cdot \text{Wald_Biomasse} \cdot (\text{Max_Biomasse_Wald} - \text{Wald_Biomasse}) / \text{Max_Biomasse_Wald}$$

$$\text{Abholzung} = \text{AbholzRate}$$

Parameter

$$\text{AbholzRate} = 2$$

$$\text{ZuwachsRate_Wald} = 0,1$$

$$\text{Max_Biomasse_Wald} = 100$$

Erläutern Sie die angegebenen Systemgleichungen.

(5 BE)

¹ Considero: $20,0 + \int - [\text{Abholzung}] + [\text{Zuwachs_Wald}] dt$
In den folgenden Gleichungen jeweils entsprechend

- c) **Beschreiben** Sie die Veränderung der Biomasse des Waldes in den beiden folgenden Diagrammen, die sich allein in der unterschiedlichen Biomasse der jährlichen Abholzung unterscheiden und erklären Sie, weshalb es zu den unterschiedlichen Reaktionen kommt. (5 BE)
- [Consideo-Bilder in der Anlage]

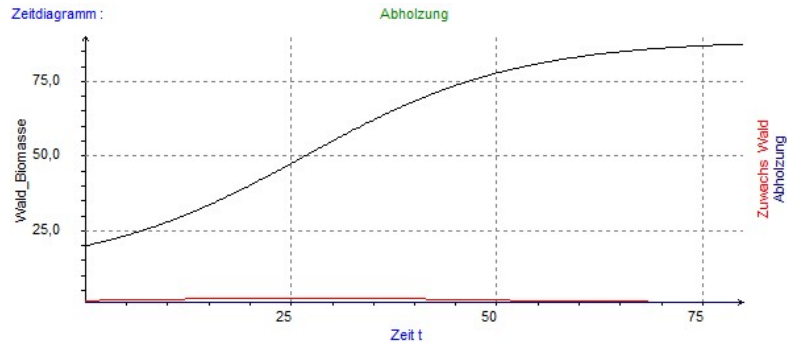


Bild 1

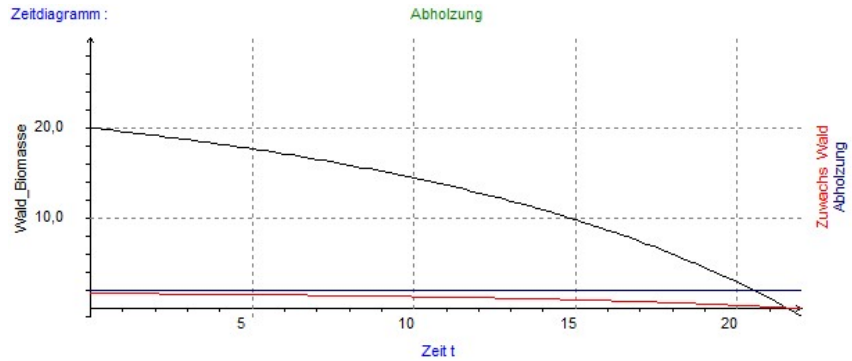
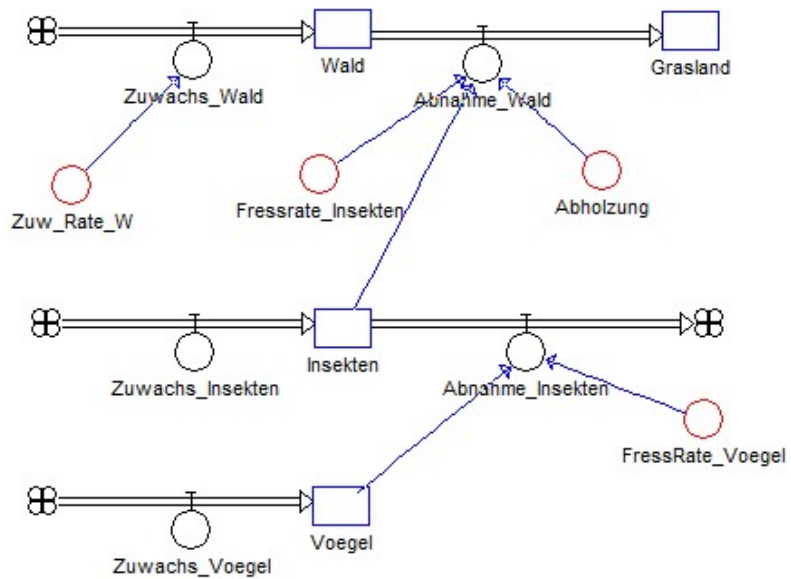


Bild 2

- d) Im Gegensatz zu der Annahme der Planer in New South Wales entwickelte sich das Ökosystem nicht wie erwartet, denn der restliche Waldbestand brach nach kurzer Zeit durch den Befall mit Schadinsekten zusammen.
- Das nebenstehende Flüßediagramm zeigt einen Vorschlag zu einer Modellierung des Systems, mit der dieses nicht erwartete Verhalten des Systems simuliert werden sollte.



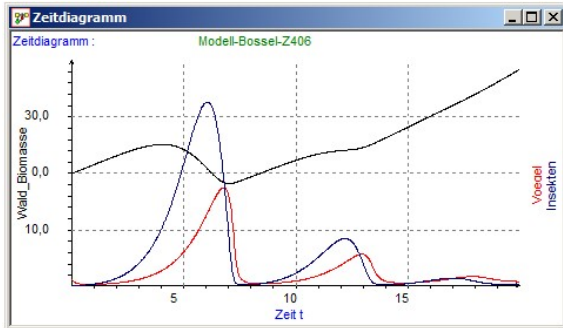
Untersuchen Sie die zu Grunde liegende Modellierung auf Vor- und Nachteile. Gehen Sie dabei auch auf die zu erwartenden Wachstumsformen ein. (8 BE)

- e) **Erläutern** Sie, welche Änderungen Sie für eine vollständige Modellierung des Systems für notwendig halten und **begründen** Sie Ihre Entscheidung.

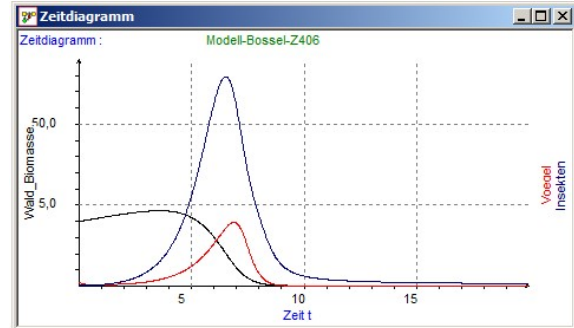
Sie können zur grafischen Darstellung ihrer Veränderungen statt eines Simulationsdiagramms auch ein Wirkungsdiagramm verwenden. (7 BE)

- f) Die folgenden Diagramme zeigen zwei Zeitdiagramme einer anderen Modellierung des Systems bei unterschiedlich hohen Abholzungsraten.

Beschreiben Sie die Unterschiede und die daraus resultierenden Auswirkungen auf das Ökosystem und **begründen** Sie aus der Beschreibung des Systems heraus, dass die Abholzungsrate zu den beobachteten Veränderungen führen kann. (5 BE)



niedrige Abholzungsrate

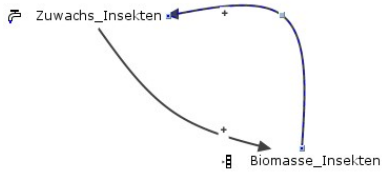
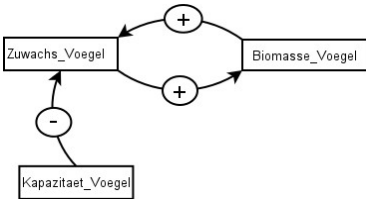
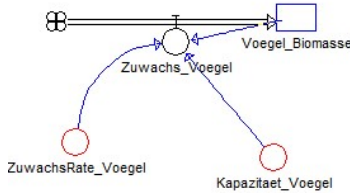
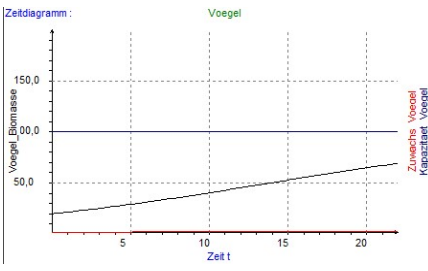
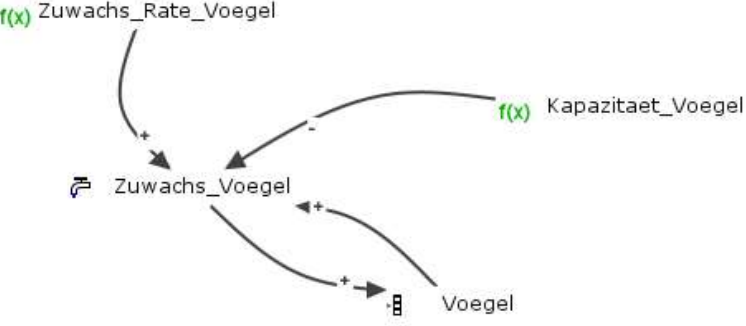



hohe Abholzungsrate

- g) **Entwickeln** Sie eine Empfehlung an die Bevölkerung der Region, die ihren Lebensunterhalt teilweise aus der Holzwirtschaft bezieht. (5 BE)

Erwartungshorizont

	Lösungsskizze	Zuordnung, Bewertung		
		I	II	III
<p>a)</p> <ul style="list-style-type: none"> Es handelt sich um lineares Wachstum, da der Zuwachs konstant und nicht vom Bestand abhängig ist. Die grafische Darstellung muss eine lineare Funktion darstellen. <p>Diagramme (Dynasys):</p> <p>Zeitdiagramm: Wald</p> <p>Diagramme (Consideo):</p> <ul style="list-style-type: none"> Es handelt sich um exponentielles Wachstum, da der Zuwachs proportional zum Bestand ist. In der grafischen Darstellung muss der steigende Zuwachs erkennbar sein. <p>Diagramme (Dynasys):</p> <p>Zeitdiagramm: Insekten</p>				

	Lösungsskizze	Zuordnung, Bewertung		
		I	II	III
	<p>Diagramme (Consideo):</p>  <ul style="list-style-type: none"> Es handelt sich um logistisches Wachstum, da der Zuwachs sowohl vom Bestand als auch von der (freien) Kapazität abhängig ist. In der grafischen Darstellung muss der typische Verlauf eines logistischen Wachstums erkennbar sein. <p>Diagramme (Dynamics):</p>    <p>Diagramme (Consideo):</p> 	8	7	
b)	<p>Die Größe Biomasse_Wald ist ein Bestand [Bestandsfaktor], dessen Wert durch Aufsummieren der Änderungen schrittweise berechnet wird.</p> <p>Zustandsänderungen treten durch die Flüsse Zuwachs_Wald und Abholzung auf. Der Zuwachs_Wald zeigt die typischen Gleichungen für logistisches Wachstum, da er proportional nicht nur zu einem Faktor, sondern auch zum Bestandswert und zur freien Kapazität ist. [Der zusätzliche Teiler dient der Normierung.]</p> <p>Die Abholzung wird als konstant angenommen.</p> <p>Die Parameter definieren die für das System relevanten konstanten Werte.</p>	2	3	

	Lösungsskizze	Zuordnung, Bewertung		
		I	II	III
c)	<p>Die erste Kurve (Bild 1) zeigt den typischen Verlauf für logistisches Wachstum, während die zweite (Bild 2) eine reine exponentielle Abnahme zeigt. Ursache ist, dass bei der zweiten Kurve die Abholzung größer ist als der anfängliche Zuwachs, so dass es gar nicht erst zu Wachstum kommen kann.</p>	3	2	
d)	<p>Die im Flüssediagramm dargestellte Modellierung stellt die auftretenden Bestandsgrößen und Flüsse dar und zeigt auftretende Wirkungen. Es ist sehr einfach und damit leicht zu verstehen. [Hier können die Schülerinnen und Schüler die auftretenden Bestandsgrößen, Flüsse und Wirkungen beschreiben und erreichen damit Leistungen im Bereich I.]</p>  <p>Man erkennt, dass die Zuwächse und Abnahmen jeweils unabhängig von ihrer Bestandsgröße sind, so dass für alle Bestandsgrößen lineares Wachstum modelliert wird [Bereich II].</p> <p>Für Leistungen im Bereich III müssen sie das als Mangel erkennen und erläutern. Außerdem können sie schon an dieser Stelle auf die fehlenden Wechselwirkungen zwischen den Populationen eingehen. [Im vorliegenden Diagramm taucht jeweils nur eine Richtung auf.] [Das hier dargestellte, den Schülerinnen und Schülern nicht bekannte und von ihnen nicht erwartete Zeitdiagramm zeigt dennoch nicht nur lineare Verläufe, was daran liegt, dass durch die Wirkung von der Bestandsgröße der Vögel auf die Abnahme der Insekten und von der Bestandsgröße der Insekten auf die Abnahme des Waldes eine zweistufige Integratorenkette auftritt, die zu einem quadratischen Verlauf bei den Insekten und zu einem kubischen Verlauf beim Wald führt. Diese Erkenntnis kann von den Schülerinnen und Schülern nicht erwartet werden. Ist das dennoch der Fall, stellt das eine zusätzliche Leistung im Bereich III dar, die entsprechende fehlende Leistungen in der nachfolgend beschriebenen Lösung zu Teilaufgabe g) ersetzen kann.</p> <p>Weiterhin können die Schülerinnen und Schüler an dieser Stelle schon auf die Frage eingehen, ob das Grasland als eigene Größe sinnvoll ist. Dazu s.u.]</p>	2	3	3
e)	<p>Unabhängig davon, ob die Schülerinnen und Schüler in der vorigen Teilaufgabe bei der Bewertung darauf hinweisen, dass es unrealistisch ist, dass der Zuwachs unabhängig vom Bestandwert ist [s.u.], sollen sie in dieser Teilaufgabe zunächst Wirkungen nennen, die zwar in der Beschreibung des Systems auftauchen, im Modell aber nicht.</p> <p>Das ist einmal die Aussage, dass beide Tierpopulationen sowohl auf den Wald als auch auf das Grasland angewiesen sind. Daher muss es von den Bestandsgrößen Wald und Grasland Wirkungspfeile zu den Flüssen bei den Vögeln und Insekten geben. In den nachfolgenden Sätzen der Systembeschreibung sind diese Wirkungen außerdem vollständiger beschrieben. [Bereich II]</p> <p>Darüber hinausgehend sollen die Schülerinnen und Schüler darauf hinweisen, dass prinzipiell bei biologischen Systemen nicht davon ausgegangen werden kann, dass der Zuwachs unabhängig vom Bestandwert ist. Beim Wald und bei den Tierpopulationen ist davon auszugehen, dass der Zuwachs einerseits proportional zum Bestandwert ist [Bereich II], andererseits sind biologische Systeme in der Regel auch durch eine Kapazität des Systems beschränkt [Bereich III].</p>			

Beispielaufgaben für die schriftliche Abiturprüfung im Fach Informatik

	Lösungsskizze	Zuordnung, Bewertung		
		I	II	III
	<p>Für eine weitergehende Wertung im Bereich III müsste zumindest beim Wald angeführt werden, dass er durch die zur Verfügung stehende Fläche begrenzt ist. Dass es zudem eine [dynamisch veränderliche] Kapazität für den Zuwachs bei Vögeln und Insekten gibt, ergibt die Möglichkeit auf das Fehlen der entsprechenden Kapazitäten und Wirkungen im vorliegenden Modell hinzuweisen und damit die volle Wertung im Bereich III zu erreichen.</p> <p>Fehlende Leistungen im Bereich III können hier teilweise durch die Erkenntnis ersetzt werden, dass das Grasland nicht als eigene Größe modelliert werden muss, sondern aus der Differenz zwischen der zur Verfügung stehenden Fläche und der mit Wald bestandenen Fläche berechnet werden kann.</p>		3	4
f)	<p>Das zweite der beiden Diagramme zeigt das in der Problembeschreibung angegebene tatsächliche Verhalten des Systems: Bei hoher Abholzungsrate bricht der Waldbestand durch den steilen Anstieg der Insektenpopulation zusammen. Das hat die Folge, dass auch die Insektenpopulation und schließlich die Vogelpopulation zusammenbrechen.</p> <p>Bei niedrigerer Abholzungsrate tritt zwar auch ein starker Anstieg der beiden Tierpopulationen auf, der aber nicht zu einem vollständigen Zusammenbruch des Waldbestandes führt. Alle Populationen können sich nach der starken Abnahme wieder erholen und auftretende Schwankungen werden vom System kompensiert.</p>		2	3
g)	<p>Die Empfehlung an die Bevölkerung geht hin zu einer nachhaltigen Forstwirtschaft, bei der die Abholzung so niedrig gehalten wird, dass das System sich selbst dann erholen kann, wenn es zu einer explosionsartigen Vermehrung der Insekten kommt.</p>		2	3
	Insgesamt 50 BE	15	22	13

Erläuterungen zur Aufgabenstellung

"Der Zustand von Ökosystemen bestimmt sich durch die komplexen Verknüpfungen zwischen ihren Komponenten, die sich im Laufe der evolutionären Entwicklung herausgebildet haben. Meist sind es vielseitige Abhängigkeitsbeziehungen zwischen Organismen über Nährstoffkreisläufe, Nahrungsketten und Nahrungsnetze, Räuber- Beute-Systeme, Symbiosen, Bestäubung, Samen Verteilung und viele andere Prozesse. Die interagierenden dynamischen Prozesse kontrollieren und regeln sich gegenseitig, so dass sich ein für das jeweilige Ökosystem typisches dynamisches Gleichgewicht herausbildet. Eingriffe, die einzelne Komponenten besonders beeinträchtigen oder fördern, können daher zu einem Umkippen des Systems in einen anderen Zustand führen.

Ein solcher Vorgang wurde z.B. in Australien beobachtet und von Trenbath und Smith 1981 als Simulationsmodell dargestellt (Richter 1985). Um größere Weideflächen für Schafe zu schaffen, hatte man in New South Wales vorhandene Eukalyptuswälder gelichtet. Zwar achtete man darauf, etwa 20% des Waldbestandes zu erhalten, um eine Versteppung des Graslandes zu verhindern, aber dennoch brach der restliche Waldbestand nach kurzer Zeit durch den Befall mit Schadinsekten zusammen.

Für die katastrophale Vermehrung der Schadinsekten und den Zusammenbruch des Restwaldes wurden zwei Gründe vermutet: Durch die Vergrößerung der Weidefläche wurden erstens die Lebensbedingungen der Insektenlarven, die sich von Graswurzeln ernähren, verbessert. Zweitens wurde aber auch durch die Verringerung der Nistplätze für Vögel die Population dieser Fressfeinde der Insekten verringert.

Das Modell beschreibt daher die folgenden Zusammenhänge: Eine Region mit einer maximalen Biomassekapazität K besteht zum Teil aus Wald x , zum Teil aus Graslandvegetation $(K-x)$. Vögel brauchen den Wald für Nistplätze und ernähren sich von Insekten. Insekten benötigen den Wald als Futterquelle und das Grasland für das Aufwachsen der Larven. Wird der Wald zunehmend zerstört, so verschlechtern sich die Bedingungen für die Vögel und verbessern sich für die Insekten. Ab einem gewissen Stadium nehmen die Insekten überhand und zerstören den restlichen Wald."

Hinweise zur Aufgabe und Quelle

Die Aufgabe basiert auf einem Modell von Hartmut Bossel, das in seinem Heft Systemzoo 2 zu finden ist. Es ist das Modell Z406 Vögel, Insekten, Wald und Grasland.

Hartmut Bossel: Systemzoo 2; Klima, Ökosysteme und Ressourcen; ISBN 3-8334-1240-2

Leider macht das Lösungs-Modell bei geringem Einschlag sehr langfristig nicht das, was Bossel beschreibt. Dies hat Bossel möglicherweise übersehen, weil er nicht langfristig genug simuliert hat. Das sollte für die Schülerinnen und Schüler aber kein Problem darstellen.

4.2 erhöhtes Anforderungsniveau

Aufgabe I: Objektorientierte Modellierung und Programmierung

Hausbau

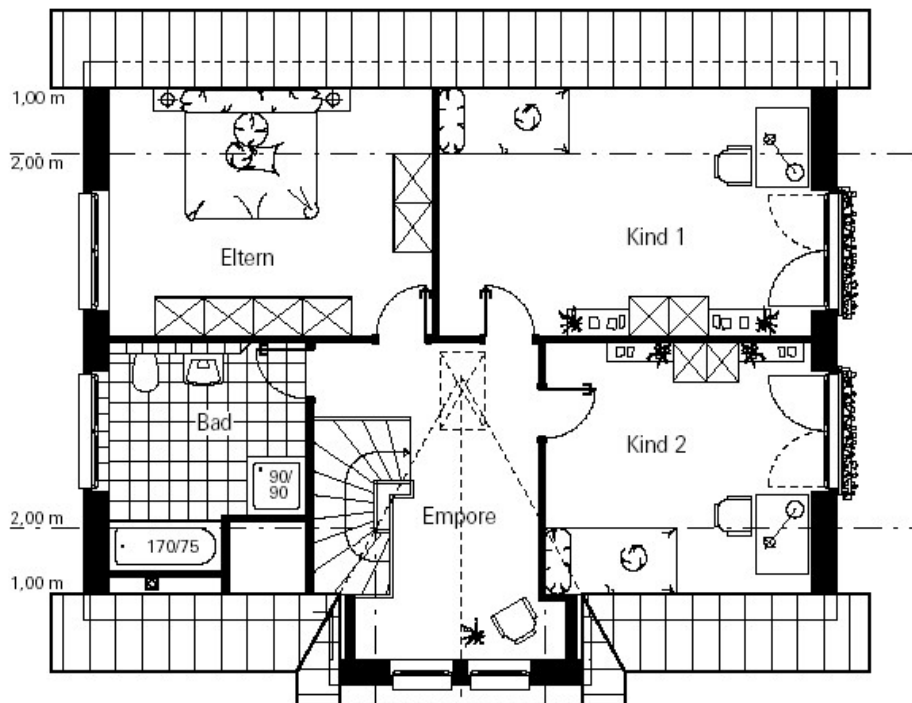
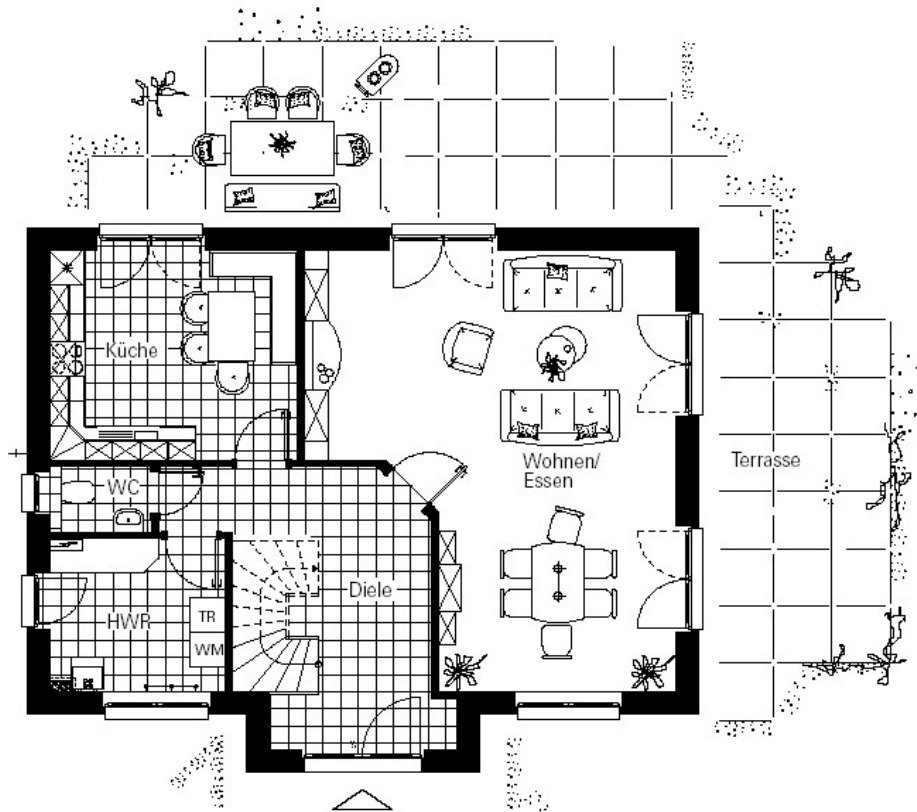
Es soll ein einfaches CAD-Programm entwickelt werden, das bei der Planung des Baus von Ein- und Zweifamilienhäusern aus Fertigbauelementen hilft. Dieses Programm soll Käufern zur Verfügung gestellt werden, damit sie sich ihr Traumhaus planen können. Es soll erst einmal nur der Grundriss gezeichnet werden können. Dabei müssen die Bauherren jeweils aus einem bestehenden Katalog vorgegebener Elemente auswählen. In dem Katalog sind die Fertigbauelemente enthalten. Es gibt beispielsweise mehrere Außen- und Innenwände, Türen, Fenster und Treppen. Da die Wandelemente auch transportiert werden müssen, gibt es sie in 5 Längen zwischen 2 m und 4 m. Längere Wände müssen aus Teilwänden zusammengesetzt werden.

Die Skizzen in der Anlage zeigen den Grundriss einer zweigeschossigen Wohnung. Es soll mit dieser Skizze nur gezeigt werden, wie beispielsweise Treppen, Türen, Wände und Fenster dargestellt werden.

- a) **Beschreiben** Sie typische Interaktionen des Anwenders mit dem Programm. Entwickeln Sie daraus grundlegende Anforderungen an das Programm. (8 BE)
- b) **Geben** Sie Kriterien an, wann der Einsatz von Vererbung bei der objektorientierten Modellierung angemessen ist. Beschreiben Sie eine mögliche Alternative zur Vererbung. (9 BE)
- c) **Beschreiben** Sie in kurzen Aussagensätzen die wichtigen Teile eines Hauses und geben sie dabei ihre Beziehung an. Entwickeln Sie für dieses System ein Klassendiagramm. Geben Sie wesentliche Attribute und Methoden an. Begründen Sie ausführlich Ihre Entscheidungen bei der Modellierung. (10 BE)
- d) Alle Elemente eines Geschosses müssen gemeinsam verwaltet werden. In Java gibt es dafür mehrere Möglichkeiten. **Beschreiben** und **vergleichen** Sie drei von diesen. (10 BE)
- e) Gehen Sie jetzt davon aus, dass alle Elemente eines Geschosses mit Hilfe einer ArrayList verwaltet werden und jedes Element über eine Methode gibPreis() verfügt. **Implementieren** Sie eine Methode gibGesamtpreis und erläutern Sie Ihre Implementation. (7 BE)
- f) Eine Treppe gehört jeweils zu zwei Geschossen. Nun wird die Treppe im Erdgeschoss verschoben. Dieses muss im Obergeschoss berücksichtigt werden. **Entwickeln** Sie einen Lösungsansatz für dieses Problem unter Verwendung von Nachrichten zwischen den beteiligten Instanzen. (6 BE)

Hilfsmittel: Dokumentationen von Klassenbibliotheken

Anlage zur Aufgabe „Hausbau“



Erwartungshorizont

	Lösungsskizze	Zuordnung, Bewertung		
		I	II	III
a)	<p>Der Anwender erstellt Geschosse, wählt, positioniert, verschiebt, dreht, löscht Bauelemente, er lässt den Plan zeichnen, er lässt dem Preis des Hauses kalkulieren, er speichert und öffnet Varianten. Das Programm muss den Plan speichern und öffnen können. Objekte müssen markiert, Eigenschaften müssen geändert werden können. Es muss eine Kalkulation erstellt werden können. Elemente müssen aus Listen ausgewählt werden können.</p>	4	4	
b)	<p>Ausgehend von den konkreten Klassen muss es möglich sein, einen allgemeinen Fall abzuleiten. Es müssen Klassen vorliegen, die auf gleiche Nachrichten reagieren, deren zugehörige Methoden aber verschieden sind. Zwischen den Klassen muss ein Merkmal angegeben werden können, das die Klassen unterscheidbar macht. Da jetzt gleiche Methoden in die Super-Klasse ausgelagert werden können, wird Redundanz vermieden.</p> <p>Neben der Vererbung muss Delegation als Alternative in Betracht gezogen werden. Bei diesem Konstrukt benutzt eine Klasse eine andere Klasse. Delegation führt in der Client-Klasse zu sehr kurzen Methoden, da die Arbeit an ein anderes Objekt einer i. d. R. anderen Klasse übergeben wird. Vererbung darf nur eingesetzt werden, wenn die Sub-Klassen Spezialfälle der Super-Klasse sind. Aber bei Erweiterung ist die Gefahr sehr groß, zu einer inkonsistenten Hierarchie zu kommen. Vererbung ist nur erlaubt, wenn gilt: Klasse A ist Spezialisierung von Klasse B. Dies ist aber nicht gegeben. Dabei gilt Spezialisierung nur in der Weise, dass es zu einer Erweiterung kommt, es darf keine Einengung vorliegen. (Kreis-Ellipsen-Dilemma, Bertrand Meyer)</p> <p>Vererbung setzt Abstraktion voraus. Damit wird es möglich, nicht auf den konkreten Details zu programmieren, um von den Änderungen an kapselbaren Entwurfsentscheidungen wenig betroffen zu sein. – Lose Kopplung)</p>	2	4	3
c)	<p>Da es sich um eine offene Aufgabenstellung handelt kann hier nur eine mögliche Lösung angegeben werden, andere sind wahrscheinlich. So ist es durchaus möglich, dass die Räume beispielsweise von ihrer Nutzung her betrachtet werden, dann könnte es eine übergeordnete Klasse Raum und davon abgeleitet Funktionsräume geben.</p> <p>Es ist denkbar beispielsweise das Factory-Entwurfsmuster zu verwenden. Wichtig ist, dass die Beschreibung des Hauses und das sich daraus ergebende Modell konsistent ist. Das Modell muss mehrere Klassen enthalten. Beziehungen müssen sinnvoll sein. Vererbung muss korrekt genutzt werden (siehe Antwort b.).</p> <p>Eine mögliche Lösung: Das Haus hat zwei Stockwerke, in jedem Stockwerk gibt es mehrere Wände, eine Wand kann eine Außenwand und Innenwand sein. Eine Innenwand kann nur Türen enthalten, Außenwände enthalten Fenster und Türen. Innen- bzw. Außenwand sind ein Spezialfall einer allgemeinen (abstrakten) Wand. Fenster und Türen sind in Wänden enthalten. Wände, Fenster und Türen sind Bauelemente. Hier ist ein übergeordnetes abstraktes Element gegeben. So können später beispielsweise leichter andere Elemente wie eine Durchreiche ergänzt werden.</p>			

	Lösungsskizze	Zuordnung, Bewertung		
		I	II	III
			5	5
d)	<p>Es könnte das Array oder eine Collection: LinkedList, ArrayList, Vector verwendet werden.</p> <p>Ein Array vom Typ BauElement ist eine einfache Form, aber statisch. Das Programm legt die maximale Anzahl von Elementen fest. Der Zugriff auf die einzelnen Elemente des Feldes erfolgt über einen Index. In Arrays können auch einfache Datentypen gespeichert werden. – Hier haben sie auch ihre Berechtigung. Für Klassen sollte eine Collection eingesetzt werden. Collections sind flexibler. Collections können nur Objekte enthalten. Einfache Datentypen müssten mit einem »Wrapper« eingepackt werden. Die Anzahl der enthaltenen Elemente passt sich während der Programmlaufzeit an die Erfordernisse an. Der Zugriff auf die Elemente der Collection erfolgt über einen Iterator. Beide Elemente sind in der Java-Bibliothek enthalten.</p> <p>Eine LinkedList könnte die Reihenfolge aneinander gefügter Elemente wiedergeben.</p>	10		
e)	<p>Der GesamtPreis kann wie folgt kalkuliert werden:</p> <pre> import java.util.*; public class Geschoss { private ArrayList bauElemente; public double gibGesamtPreis() { double gesamtPreis = 0.0; BauElement tmpBauElement; ListIterator<BauElement> it = bauElemente.listIterator(); while(it.hasPrevious()) { tmpBauElement = it.previous(); gesamtPreis += tmpBauElement.getPreis(); } return gesamtPreis; } } </pre> <p>Die Prüflinge können anstelle des Iterators auch eine for-Schleife nutzen.</p>		5	2

	Lösungsskizze	Zuordnung, Bewertung		
		I	II	III
f)	<p>Die Stockwerke müssen eine Referenz auf das über bzw. unter ihnen liegende Stockwerk besitzen. Nur so können sie sich gegenseitig benachrichtigen. Die Verschiebung der Treppe hat dann in dem einen Stock zur Aufgabe, die Nachricht an das andere Stockwerk zu senden. Damit würde man ein Beobachtermuster nutzen. Es hängt aber davon ab, wie die Koordinatensysteme und die Bezüge im Haus realisiert sind.</p> <p>Es ist zwar auch möglich, einen übergeordneten Verwalter zu verwenden. Dies ist aber keine gute Lösung. Es werden zusätzliche Abhängigkeiten geschaffen.</p>		3	3
	Insgesamt 50 BE	16	21	13

Hinweise zur Aufgabe:

Die Aufgabe setzt voraus, dass sich die Prüflinge die im Rahmenplan genannten Konzepte der objektorientierten Modellierung und Programmierung erarbeitet haben.

Dazu gehört u. a. die Erstellung von Use-Case- und Klassendiagrammen (UML), die Eigenschaften verschiedenartiger Beziehungen zwischen Klassen sowie die Konzepte der Kapselung, der Vererbung und der Polymorphie. Ein Schwerpunkt stellte die Beurteilung wichtiger Modellierungsalternativen dar, dazu gehört beispielsweise die Alternative Vererbung / Delegation. Modelle sind mit Hilfe Java implementiert und Klassenbibliotheken genutzt worden. In Java wurden die einfachen Datentypen, der strukturierte Datentyp Array und einfache Konzepte der Collections behandelt. Darüber hinaus wurden einige Entwurfsmuster, u.a. das Kompositum erarbeitet.

Im Zusammenhang mit der Implementation von Methoden für Grafikobjekte wurde das Drehen behandelt. Bezüglich der Aufgabenstellung d) wurden mindestens drei Varianten im Unterricht diskutiert.

Kommentar

Es ist sinnvoll, die Bewertung des Anwendungskontextes als weiteren Aufgabenteil zu ergänzen. Dazu müsste ein aktueller „authentischer“ Text vorgeben werden (z. B. von der Architektenkammer über Selbstplanung von Häusern), zu dem die Prüflinge Stellung nehmen müssten.

Aufgabe II: Datensicherheit in verteilten Systemen

Der Bote

Im Zeitalter des Absolutismus (17. Jahrhundert) herrschte Ludwig XIV. in Frankreich. Die Kommunikation des Königs mit den Befehlshabern des Militärs und innerhalb des Militärs soll stärker abgesichert werden. Bislang werden wichtige Nachrichten von einem als vertrauenswürdig geltenden Boten übermittelt, entweder mündlich oder mit dem Caesar-Verfahren verschlüsselt in schriftlicher Form.

Eine Übermittlung von Ludwig XIV. zum militärischen Oberbefehlshaber läuft wie folgt ab:

Der König lässt von seinem Schreiber eine Nachricht notieren. Der Schreiber verschlüsselt die Nachricht mit dem Caesar-Verfahren. Der Berater des Königs wählt unter den Boten einen aus, der dem Oberbefehlshaber bekannt ist. Der Bote nimmt die verschlüsselte Nachricht und eilt zum Oberbefehlshaber. Nachdem sich der Oberbefehlshaber davon überzeugt hat, dass ihm der Bote bekannt ist, nimmt er die Botschaft entgegen und entschlüsselt sie.

- a) **Geben** Sie eine Definition der grundlegenden Begriffe Vertraulichkeit, Integrität und Authentizität **an** und **erläutern** Sie diese Begriffe anhand des Beispiels. (5 BE)

Protokolle sollen den geordneten Ablauf einer Kommunikation ermöglichen.

- b) **Arbeiten** Sie **heraus**, inwieweit beim bisherigen Ablauf der Kommunikation der geordnete Ablauf sichergestellt wird. (5 BE)
- c) **Beschreiben** Sie, wie ein mit dem Caesar-Verfahren verschlüsselter Text ohne Kenntnis des Schlüssels entschlüsselt werden kann. (5 BE)

Bereits im 16. Jahrhundert entwickelte Blaise de Vigenère das nach ihm benannte Verfahren.

- d)
- **Stellen** Sie das Vigenère-Verfahren anhand eines selbst gewählten Beispiels **dar**.
 - **Erklären** Sie, wovon die Sicherheit des Verfahrens abhängt. (9 BE)

In der **Anlage** ist der Quelltext für eine Vigenère-Verschlüsselung abgedruckt.

- e)
- **Erläutern** Sie die Funktionsweise der Funktion `vigenere` sowie der zugehörigen Hilfsfunktion anhand der ersten beiden Buchstaben für den Beispielaufruf `(vigenere '(I N F O R M A T I K) '(H O L Z))`.
 - **Erklären** Sie, wie die wiederholte Anwendung des Schlüsselwortes realisiert worden ist. (8 BE)

Es gibt sogenannte schwache Schlüssel, die einen Angriff auf einen damit erstellten Geheimtext vereinfachen. Beim Vigenère-Verfahren sollte der Schlüssel deshalb möglichst keine Buchstabenwiederholungen enthalten.

- f) **Entwickeln** und **implementieren** Sie eine Funktion (ggf. mit weiteren Unterfunktionen), die den Schlüssel entsprechend überprüft. (8 BE)

Es gibt mehrere Gründe, das oben beschriebene Verfahren zur Übermittlung von Nachrichten zu verändern. Dazu gibt es eine Reihe von Vorschlägen:

1. Die Boten erhalten einen „Dienstausweis“.
2. Es werden in Zukunft Nachrichten nur noch schriftlich übergeben.
3. Der verwendete Schlüssel wird jeden Monat geändert.
4. Als Verschlüsselungsverfahren wird das Vigenère-Verfahren eingeführt.

- g) **Beurteilen** Sie jeden dieser vier Vorschläge danach, ob und inwieweit er umgesetzt werden sollte. (10 BE)

Anlage 1 zur Aufgabe „Der Bote“, Aufgabenteil e)**Hinweise**

Statt der Funktion `first` kann `car` benutzt werden.

Statt der Funktion `rest` kann `cdr` benutzt werden.

```

1 (define alphabet '(A B C D E F G H I J K L M N O P Q R S T U V W X Y Z))
2
3 ;pos-symbol liefert die Position eines Symbols (Buchstabe) in einer Liste.
4 ;Die Nummerierung beginnt mit 0.
5 ;Ist das Symbol nicht Element der Liste,
6 ;liefert die Funktion als Wert die Länge der Liste + 1.
7 ;Beispielaufruf: (pos-symbol 'C alphabet) --> 2
8 ;aber (pos-symbol 'c alphabet) --> 27
9 (define (pos-symbol symbol liste)
10   (cond ((null? liste) 1)
11         ((equal? (first liste) symbol) 0)
12         (else (+ 1 (pos-symbol symbol (rest liste))))))
13
14 ;symbol-pos liefert das Symbol, das sich an der n-ten Stelle einer Liste befindet.
15 ;Beispielaufruf: (symbol-pos 4 alphabet) --> E
16 ;Liegt ein Index außerhalb der Liste, wird eine leere Liste zurückgeliefert.
17 (define (symbol-pos index liste)
18   (cond ((null? liste) '())
19         ((= index 0) (first liste))
20         (else (symbol-pos (- index 1) (rest liste)))))
21
22 ;Beispielaufruf (caesar 'A 5) --> F
23 (define (caesar klarzeichen schluessel)
24   (symbol-pos
25    (modulo (+ (pos-symbol klarzeichen alphabet) schluessel) (length alphabet))
26    alphabet))
27 ;vigenere-hilf (Hilfsfunktion), da für den Aufruf nicht benutzerfreundlich.
28 ;Beispielaufruf:
29 ;(vigenere-hilf '(I N F O R M A T I K) '(H O L Z) '(H O L Z)) --> (P B Q N Y A L
30 S P Y)
31 (define (vigenere-hilf klartextliste schluessel schluesselwort)
32   (cond ((null? klartextliste) '())
33         ((null? schluessel) (vigenere-hilf klartextliste schluesselwort schluesselwort))
34         (else (cons (caesar (first klartextliste)
35                             (pos-symbol (first schluessel) alphabet))
36                     (vigenere-hilf (rest klartextliste)
37                                     (rest schluessel)
38                                     schluesselwort)))))
39 ;vigenere erhält einen Klartext als Liste von Symbolen sowie das Schlüsselwort,
40 ;ebenfalls als Liste.
41 ;Beispielaufruf (vigenere '(I N F O R M A T I K) '(H O L Z)) --> (P B Q N Y A L
42 S P Y)
43 (define (vigenere klartextliste schluesselwortliste)
44   (vigenere-hilf klartextliste schluesselwortliste schluesselwortliste))

```

Erwartungshorizont

	Lösungsskizze	Zuordnung, Bewertung		
		I	II	III
a)	<p>Vertraulichkeit: Nur ausgewählte befugte Personen können die Nachricht lesen.</p> <p>Integrität: Die Nachricht kann während der Übertragung nicht verändert werden.</p> <p>Authentizität: Die Identität des Absenders bzw. die genaue Zuordnung der Absenderadresse ist sichergestellt.</p> <p>Vertraulichkeit wird mit Hilfe des Caesar-Verfahrens hergestellt (unsicher, siehe c)).</p> <p>Integrität wird dadurch hergestellt, dass der Bote die Nachricht transportiert und damit schützt.</p> <p>Authentizität wird dadurch hergestellt, dass der Absender und der Empfänger den Boten kennen.</p>	2	3	
b)	<p>Das „Protokoll“ legt zwar den Ablauf der Ver- und Entschlüsselung sowie die Übertragung fest, sieht aber keinerlei Regelungen für den Fall etwaiger Fehler oder Probleme vor.</p> <p>Die Liste der möglichen Fehler ist lang: unbekannter Bote, Bote kommt nicht an, Bote kommt ohne Nachricht an, ...</p> <p>Von den oben aufgeführten Aspekten ist nur der Fall geregelt, dass ein unbekannter Bote beim Empfänger ankommt; aber auch in diesem Fall bleibt offen, ob der Sender von dem Ereignis erfährt.</p>		5	
c)	<p>Mit der Häufigkeitsanalyse wird der häufigste Buchstabe im Geheimtext bestimmt. Dieser entspricht vermutlich dem häufigsten Buchstaben im Klartext (im Deutschen das ‚E‘), daraus kann die Verschiebung (= Schlüsselbuchstabe) bestimmt werden. Mit Hilfe der Verschiebung kann der Geheimtext entschlüsselt werden.</p> <p>Der Prüfling darf auch die Brute-force-Methode beschreiben. Er könnte gemeinsam mit 25 weiteren Mitschülerinnen und Mitschüler auf die Idee kommen, dass jeder eine Verschiebung ausprobiert. Des Weiteren könnte er auch allein mit Hilfe der ersten n Buchstaben 26 Verschiebungen ausprobieren, bis etwas Sinnvolles entsteht.</p>	5		
d)	<p>Nach der Festlegung des Schlüsselwortes wird der Klartext zyklisch verschlüsselt. Der Klartext wird in Blöcke von der Länge des Schlüsselwortes unterteilt, der erste (zweite, dritte, ...) Buchstabe eines Klartextblocks wird mit dem ersten (zweiten, dritten, ...) Buchstaben des Schlüsselwortes nach Caesar verschlüsselt.</p> <p>Beispiel: INFORMATIK - HOLZ → PBQNYALSPY</p> <p>Die Sicherheit hängt in erster Linie von dem Verhältnis Klartextlänge zu Schlüsselwortlänge ab. Erstens wird die Bestimmung der Schlüsselwortlänge mit zunehmender Schlüsselwortlänge tendenziell aufwendiger und zweitens liefert die Häufigkeitsanalyse der gleich verschlüsselten Buchstaben mit zunehmender Schlüsselwortlänge immer schlechtere Ergebnisse.</p>	6	3	
e)	<p>In der Funktion <code>vigenere-hilf</code> werden Klartext und Schlüssel zeichenweise abgearbeitet. Dazu wird die Funktion <code>caesar</code> aufgerufen, die ein Symbol (ein Klartextzeichen) nach dem Caesar-Verfahren verschlüsselt. Klartext- und Schlüsselbuchstabe (I und H bzw. N und O) werden mit der Funktion <code>pos-symbol</code> in Zahlen (8 und 7 bzw. 13 und 14) umgewandelt, addiert und durch die Länge des Alphabets modular geteilt. Die dabei ermittelte Zahl (15 bzw. 1) wird mit der Funktion <code>symbol-pos</code> in einen Buchstaben (P bzw. B) umgewandelt.</p> <p>Wenn das Schlüsselwort einmal abgearbeitet worden ist (<code>null?</code>)</p>		6	2

	Lösungsskizze	Zuordnung, Bewertung		
		I	II	III
	<p>schluessel), erfolgt der nächste Aufruf der Funktion <code>vigenere-hilf</code> mit dem vollständigen Schlüsselwort als zweitem Parameter. Dies geschieht solange, bis die Bedingung <code>(null? klartextliste)</code> erfüllt ist, also der Klartext vollständig abgearbeitet wurde. Der Geheimtext wird zeichenweise aufgebaut. Er entsteht beim Aufstieg aus der Rekursionstiefe, bei dem von unten nach oben zunächst das letzte, dann das vorletzte, usw. und schließlich das erste Geheimzeichen in die anfangs leere Liste mit <code>cons</code> vorn eingefügt wird.</p>			
f)	<p>Der Schlüssel wird zeichenweise abgearbeitet. Jedes Zeichen wird in einer Hilfsfunktion darauf hin überprüft, ob es in dem noch folgenden Teil des Schlüssels enthalten ist. Die Funktion wird beendet, wenn ein Buchstabe doppelt im Schlüssel vorkommt oder das Ende bzw. der letzte Buchstabe des Schlüssels erreicht ist.</p> <p><i>Andere Ansätze sind ebenfalls möglich, hängen von den jeweiligen Vorkenntnissen der Prüflinge ab.</i></p> <p>Mustercode:</p> <pre> 1 (define (vorhanden? buchst liste) 2 (cond ((null? liste) #f) 3 ((equal? buchst (first liste)) #t) 4 (else (vorhanden? buchst (rest liste))))) 5 6 (define (test schluessel) 7 (cond ((null? schluessel) #t) 8 ((vorhanden? (first schluessel) (rest schluessel)) #f) 9 (else (test (rest schluessel))))) 10 11 ;(test '(H O L Z)) ergibt true 12 ;(test '(H O H L)) ergibt false </pre>		6	2
g)	<p>Vorschlag 1: sinnvoll; die einzelnen Personen müssen sich nicht vorher schon einmal kennengelernt haben; auch sinnvoll bei Krankheit; Fälschungssicherheit ist jedoch schwer herzustellen</p> <p>Vorschlag 2: sinnvoll, da ein Bote nicht unter Druck die Information preisgeben kann</p> <p>Vorschlag 3: sinnvoll, um die Folgen etwaiger erfolgreicher Angriffe zeitlich zu begrenzen. Die regelmäßige Änderung eines Schlüssels könnte mithilfe eines Schlüsselwortbuches erfolgen. Das ist relativ aufwändig und anfällig, weil das Schlüsselwortbuch gestohlen werden könnte. Alternativ könnte der Schlüssel auch monatlich durch einen Boten übermittelt werden. Dabei besteht jedoch die Gefahr, dass der Schlüssel abgefangen wird.</p> <p>Vorschlag 4: sinnvoll, da polyalphabetische Verfahren nicht so einfach anzugreifen sind wie monoalphabetische</p> <p>Alle Aspekte müssen gegeneinander abgewogen werden (insbesondere 1 und 3 erscheinen als umständlich oder schwierig unter den damaligen Verhältnissen). Eine mögliche Entscheidung würde also in erster Linie die Vorschläge 2 und 4 berücksichtigen. Vorschlag 3 könnte in Form eines Schlüsselwortbuches für einen bestimmten Zeitraum berücksichtigt werden.</p> <p><i>Anmerkung: Darüber hinaus können Einzelaspekte konkretisiert und/oder ergänzt werden wie Länge und andere Eigenschaften des Schlüsselwortes, Versiegelung der Nachricht, ...</i></p>		2	8
	Insgesamt 50 BE	13	25	12

Aufgabe III.1: Intelligente Suchverfahren

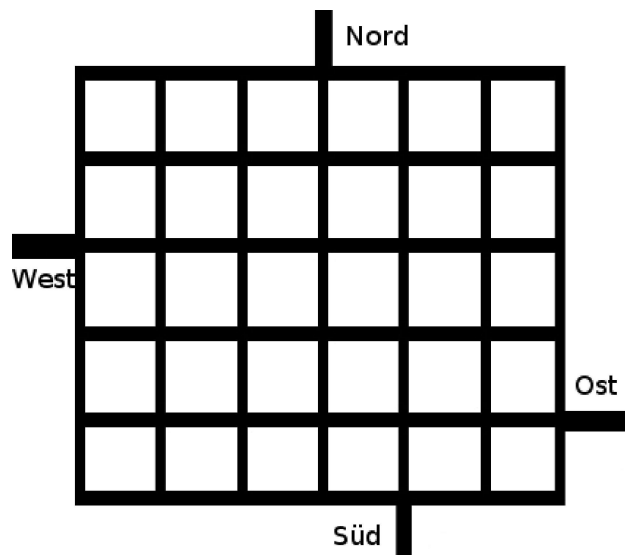
Aufgabe zur Verkehrsplanung

Die Stadtverwaltung einer Stadt, bei der im alten Stadtkern alle Straßen weitgehend schachbrettartig angeordnet sind, möchte den Verkehrsfluss im und durch den Stadtkern optimieren, da eine Umgehung nicht möglich ist.

Da die Straßen sehr eng sind, hat man vor, alle Straßenabschnitte im Stadtkern als Einbahnstraßen auszuweisen.

Die Zufahrt in und die Ausfahrt aus dem Stadtkern ist wegen der erhaltenen Stadtmauer nur über vier Straßen (Nord, Ost, Süd und West) möglich.

Der Stadtkern soll dem dargestellten Bild entsprechen.



- a) **Geben** Sie mindestens zwei mögliche Datenmodellierungen für das Problem an und **beschreiben** Sie ihre Umsetzung in der verwendeten Programmiersprache. (10 BE)

Das beiliegende Programm (siehe Anhang) sucht einen kürzesten Weg, beispielsweise von einer Zufahrt zu einer Ausfahrt; gibt es keinen Weg, liefert es #f zurück. Dabei wird davon ausgegangen, dass die einzelnen Wegabschnitte im Stadtkern alle gleich lang sind.

- b)
- **Analysieren** Sie den Programmtext des verwendeten Suchverfahrens im Anhang.
 - **Begründen** Sie, dass mit seiner Hilfe tatsächlich ein kürzester Weg gefunden wird. (12 BE)

Für den gegebenen Stadtkern lässt sich die Anzahl der prinzipiell möglichen unterschiedlichen Belegungen des Stadtplanes mit Einbahnstraßen auf einfache Art berechnen.

- c) **Bestimmen** Sie diese Anzahl und **geben** Sie **an**, welche Bedeutung sie für die Lösbarkeit des Problems hat. (6 BE)

Nicht jede mögliche Belegung mit Einbahnstraßen ist auch zulässig.

- d)
- **Beschreiben** Sie die zwingend notwendige Anforderung für eine geordnete Verkehrerschließung des Stadtkerns.
 - **Entwickeln** und **implementieren** Sie eine Funktion (ggf. mehrere) in der verwendeten Programmiersprache, mit der eine vorgegebene Lösung auf Zulässigkeit untersucht werden kann. (16 BE)

Die Stadtverwaltung möchte nicht nur eine zulässige Belegung des Stadtplans mit Einbahnstraßen umsetzen, sondern fordert, dass der Durchgangsverkehr auf möglichst kurzem Wege den Kern wieder verlässt. Um verschiedene der zulässigen Belegungen vergleichen zu können, benötigt man eine Bewertungsfunktion.

- e) **Entwerfen** Sie eine solche Funktion. (6 BE)

Anlage 1 zur Aufgabe zur Verkehrsplanung

Suchfunktion

```
(define
  (suchverfahren start-Ort ziel-Ort graph)

  (define
    (suche besucht wege)
    (cond
      ((null? wege) #f)

      ((member (caar wege) besucht)
       (suche besucht (cdr wege)))

      ((member ziel-Ort (finde-Nachfolger (caar wege) graph))
       (cons
        ziel-Ort
        (car wege)))

      (else
       (suche
        (cons (caar wege) besucht)
        (append
         (cdr wege)
         (expandiere-Knoten
          (car wege)
          (finde-Nachfolger (caar wege) graph)))))))

  (suche '() (list (list start-Ort))))
```

```
(define
  (finde-Nachfolger knoten graph)
```

→ Hier fehlt der Auswertungsteil. Er gibt die Nachfolgeknoten im Graphen als Liste zurück.

```
(define
  (expandiere-Knoten weg nachfolger)
  (cond
    ((null? nachfolger) '())
    (else
     (cons
      (cons (car nachfolger) weg)
      (expandiere-Knoten weg (cdr nachfolger))))))
```

Hinweise

(car liste) entspricht (first liste)

(cdr liste) entspricht (rest liste)

(caar liste) entspricht der Schachtelung (first (first liste))

(member element liste) liefert die Teilliste ab dem gefundenen Element zurück; ist es nicht enthalten, dann #f.

Erwartungshorizont

Hinweis: *Kursiv gedruckter Text ist nicht Teil der Schülerlösung; es handelt sich um zusätzliche Hinweise für die Lehrkraft.*

	Lösungsskizze	Zuordnung, Bewertung		
		I	II	III
a)	<p>Grundlegende Datenmodellierungen sind Kanten(-Listen) oder Knoten(-Listen). Beide sind angemessen, da es sich um einen Graphen (wegen der Einbahnstraßenregelung um einen gerichteten Graphen) handelt.</p> <p>Eine Kantenliste in Scheme ist eine Liste, die aus Paaren oder zwei-elementigen Listen (einfacher!) von Knoten besteht. Beispiel: ' ((A B) (B D) (A D) ...)</p> <p>Eine Knotenliste würde man in Scheme als Assoziationsliste modellieren, in der man (zu einem Ausgangsknoten) jeweils eine Liste der Nachfolgeknoten, zu denen eine direkte Kante führt, angibt oder (hier gewählt) mit dem Knoten und den Nachfolgeknoten eine Liste bildet. Beispiel: ' ((A (B D)) (B (C D)) ...) oder ' ((A B D) (B C D) ...)</p> <p>Diese Lösung gilt für einen Graphen ohne Kantenbewertung. Für einen bewerteten Graphen können die entsprechenden Varianten folgendermaßen aussehen: ' ((A B 5) (B D 4) (A D 9) ...) ' ((A ((B 5) (D 7))) (B ((C 6) (D 4))) ...) oder ' ((A (B 5) (D 7)) (B (C 6) (D 4)) ...)</p> <p>Die Zu- und Abfahrtstraßen im Norden, Osten usw. sind nicht gesondert zu beschreiben, da sie allein als Knoten im beschreibenden Graphen auftauchen.</p>	5	5	
b)	<p><i>Suchverfahren</i></p> <p><i>Es handelt sich um Breitensuche. Eine Begründung ist nicht verlangt. Die beim Operator "Analysiere..." geforderte Darstellung ermöglicht es, dass die Schülerinnen und Schüler sich unabhängig vom Namen ausführlich mit dem Programmtext beschäftigen.</i></p> <p>Die Funktion <code>expandiere-Knoten</code> bekommt den aktuellen Weg und die Nachfolgeknoten übergeben und generiert alle Fortsetzungen, indem die Nachfolgeknoten jeweils an den Kopf der Liste gesetzt werden. Zulässigkeit prüft sie selbst nicht.</p> <p>Die Funktion <code>suche</code> ist die eigentliche Suchfunktion (Die Funktion <code>suchverfahren</code> hat nur die Funktion einer Aufrufhülle). Sie arbeitet mit einer <code>besucht-Liste</code>, die es ermöglicht, Wege zu entfernen [Bedingung <code>(member (caar wege) besucht)</code>], deren Endknoten bereits mit einem kürzeren oder maximal gleich langen Weg erreicht wurde.</p> <p>Die Bedingung <code>(member ziel-Ort (finde-Nachfolger (caar wege)))</code> untersucht den Erfolgsfall und generiert den gefundenen kürzesten Weg.</p> <p>Entscheidend für die Beurteilung, um welches Suchverfahren es sich handelt, ist der <code>else-Fall</code>. Die fortsetzenden Wege des Wegs vom Kopf der Wegeliste werden hinten an die restlichen Wege gehängt, so dass sie erst weiter expandiert werden, nachdem alle anderen restlichen Wege expandiert wurden. Das ist das Konzept <code>breadth-first</code>.</p>		4	4
	Bei uniformer Kantenbewertung werden bei der Breitensuche die kürzesten Wege zuerst gefunden, da längere erst nachfolgend generiert werden.		2	2

	Lösungsskizze	Zuordnung, Bewertung		
		I	II	III
c)	<p><i>Anzahl und Lösbarkeit</i></p> <p><i>Hier reicht prinzipiell eine einfache Beschreibung:</i></p> <p>Jede Kante (s.o.) kann je nach Einbahnstraßenrichtung prinzipiell zwei verschiedene Werte tragen. Daher gibt es 2Kantenzahl Möglichkeiten.</p> <p>Das Problem wächst also exponentiell. <i>Die Schülerinnen und Schüler sollen deutlich machen, dass sie das Problem des exponentiellen Wachstums des Suchraums kennen und darauf hinweisen, dass bei einer Breitensuche mit Problemen durch die Größe der Datenstruktur zu rechnen ist.</i></p> <p>Allerdings ist die Stadtverwaltung sicher nicht an der prinzipiellen Lösbarkeit interessiert, sondern an der ganz konkreten für ihre eigene Stadt. Hier sind es $267 = 147.573.952.589.676.412.928 \approx 150$ Billionen (271 wäre akzeptabel), also schon eine „recht große“ Zahl. <i>Die Schülerinnen und Schüler sollen nicht die genaue Zahl angeben und auch nicht beurteilen, ob die Berechenbarkeit tatsächlich gegeben ist oder nicht.</i></p>	4	2	
d)	<p>Soll der Stadtkern wirklich verkehrlich erschlossen sein, dann muss es einerseits möglich sein, zu jedem Ort im Stadtkern (die Knoten bzw. Ecken des Graphen sind relevant) zu gelangen, andererseits aber auch von dort aus herauszukommen. Keine der Einbahnstraßen darf daher in eine Sackgasse führen.</p> <p><i>Weitere Anforderungen sind denkbar – beispielsweise Übersichtlichkeit – sind aber nicht notwendig und können daher nur in geringem Umfang als Teillösung angenommen werden.</i></p>	4	2	
	<p>Für die Zulässigkeit sollte nicht untersucht werden, ob es sich bei der möglichen Lösung wirklich um eine Einbahnstraßenlösung handelt, da diese Frage beim Generieren der zu testenden Lösungen geklärt werden kann. Wichtig ist aber die eben betrachtete zwingende Anforderung.</p> <p>Es gibt verschiedene Möglichkeiten, dies zu lösen.</p> <p>Eine (scheinbar) einfache Lösung ist hier zunächst betrachtet: Kommt man von jedem Ort zu jedem Ort?</p> <p>Dazu wird zunächst über eine Hilfsfunktion aus dem Graphen die Liste aller Orte generiert und diese dann der eigentlichen Testfunktion zusammen mit dem Graphen übergeben, die dann mit Hilfe der suchfunktion die Zulässigkeit aller Kombinationen von Start- und Zielorten untersucht.</p> <p><i>Bei allen Lösungen sollte beachtet werden, dass die Bearbeitung in sinnvolle Teilfunktionen aufgegliedert ist und diese keine größere Bearbeitungstiefe aufweisen. Allerdings kann der Zugriff auf Parameter (beispielsweise auf graph) erleichtert werden, wenn man mit inneren (lokalen) Funktionen arbeitet. Darauf ist hier bewusst verzichtet worden, das stellt aber keine bessere Lösung dar.</i></p>			

Beispielaufgaben für die schriftliche Abiturprüfung im Fach Informatik

```

(define
  (orte-zu-graph orte graph)
  ;endrekursiv
  (cond
    ((null? graph) orte)
    ((member (caar graph) orte) ; bereits extrahiert
     (orte-zu-graph orte (rest graph)))
    (else
     (orte-zu-graph (cons (caar graph) orte) (rest graph)))))

(define
  (start-ort-ok? start orte graph)
  (cond
    ((null? orte) #t)
    ((suchverfahren start (car orte) graph)
     (start-ort-ok? start (cdr orte) graph))
    (else #f)))

(define
  (ziel-ort-ok? orte ziel graph)
  (cond
    ((null? orte) #t)
    ((suchverfahren (car orte) ziel graph)
     (ziel-ort-ok? (cdr orte) ziel graph))
    (else #f)))

(define
  (start-alle-ok? start-orte orte graph)
  (cond
    ((null? start-orte) #t)
    ((start-ort-ok? (car start-orte) orte graph)
     (start-alle-ok? (cdr start-orte) orte graph))
    (else #f)))

(define
  (ziel-alle-ok? orte ziel-orte graph)
  (cond
    ((null? ziel-orte) #t)
    ((ziel-ort-ok? orte (car ziel-orte) graph)
     (ziel-alle-ok? orte (cdr ziel-orte) graph))
    (else #f)))

(define
  (alles-ok? orte graph)
  (and
    (start-alle-ok? orte orte graph)
    (ziel-alle-ok? orte orte graph)))

(define
  (zulaessig? graph)
  (alles-ok? (orte-zu-graph '() graph) graph))

```


<p><i>Die folgende einfachere Lösung ist ebenfalls sinnvoll und ausreichend:</i></p> <p>Es wird getestet, ob man von jedem Ort zu jedem der Ausgänge kommt und von jedem Eingang zu jedem Ort.</p> <p>Eine alternative zur oben angegebenen ist also die folgende:</p> <pre>(define (teste eingaenge graph) (cond ((null? eingaenge) #t) ((not (teste-alle (car eingaenge) graph)) #f) (else (teste (cdr eingaenge) graph)))) (define (teste-alle eingang graph) (and (teste-alle-hinein eingang graph graph) (teste-alle-hinaus eingang graph graph))) (define (teste-alle-hinein eingang reste graph) (cond ((null? reste) #t) ((suchverfahren eingang (caar reste) graph) (teste-alle-hinein eingang (cdr reste) graph)) (else #f))) (define (teste-alle-hinaus eingang reste graph) (cond ((null? reste) #t) ((suchverfahren (caar reste) eingang graph) (teste-alle-hinaus eingang (cdr reste) graph)) (else #f)))</pre>			
		6	4

e)	<p>Die Lösung kann allein textlich sein.</p> <p>Die gesamte Fahrlänge für den Durchgangsverkehr ist die Summe über die Längen der jeweils kürzesten Wege von jeder Zufahrt zu jeder Ausfahrt.</p> <p>Dazu kann man die Funktion <code>suchverfahren</code> verwenden, da sie den kürzesten Weg zurückliefert. Dessen Länge ist zu bestimmen und alle diese Werte sind zu summieren.</p> <p>Die hier angegebene Lösung ist die einfachste, andere sind möglich.</p> <pre>(define (gesamtlaenge strassennetz) (+ (length (suchverfahren 'N 'O strassennetz)) (length (suchverfahren 'N 'S strassennetz)) (length (suchverfahren 'N 'W strassennetz)) (length (suchverfahren 'O 'N strassennetz)) (length (suchverfahren 'O 'S strassennetz)) (length (suchverfahren 'O 'W strassennetz)) (length (suchverfahren 'S 'N strassennetz)) (length (suchverfahren 'S 'O strassennetz)) (length (suchverfahren 'S 'W strassennetz)) (length (suchverfahren 'W 'N strassennetz)) (length (suchverfahren 'W 'O strassennetz)) (length (suchverfahren 'W 'S strassennetz))))</pre>		4	2
	Insgesamt 50 BE	13	25	12

Ergänzung: Suchfunktion inklusive Auswertungsteil

```

(define
  (suchverfahren start-Ort ziel-Ort graph)

  (define
    (suche besucht wege)
    (cond
      ((null? wege) #f)

      ((member (caar wege) besucht)
       (suche besucht (cdr wege)))

      ((member ziel-Ort (finde-Nachfolger (caar wege) graph))
       (cons
        ziel-Ort
        (car wege)))

      (else
       (suche
        (cons (caar wege) besucht)
        (append
         (cdr wege)
         (expandiere-Knoten
          (car wege)
          (finde-Nachfolger (caar wege) graph)))))))

  (suche '() (list (list start-Ort))))

(define
  (finde-Nachfolger knoten graph)
  (if ; fuer Knotenliste (Assoziationsliste) *)
      (assoc knoten graph)
      (cdr (assoc knoten graph))
      ' ()))

(define
  (expandiere-Knoten weg nachfolger)
  (cond
    ((null? nachfolger) ' ()))
    (else
     (cons
      (cons (car nachfolger) weg)
      (expandiere-Knoten weg (cdr nachfolger))))))

*) Auswertungsteil für Kantenliste:

  (cond
    ((null? graph) ' ()))
    ((equal? knoten (caar graph))
     (cons (cadar graph) (finde-Nachfolger knoten (cdr graph))))
    (else
     (finde-Nachfolger knoten (cdr graph))))

```

Aufgabe III.2: Sprachverarbeitung

Einsatz automatisierter Übersetzer bei Bewerbungsschreiben

Maxi Mustermann hat endlich ihren Bachelor in Informatik gemacht und möchte nun ihre erste Bewerbung schreiben. Die Firma hat ihren Hauptsitz in England und Maxi muss das Anschreiben in Englisch verfassen. Leider kann Maxi in Englisch keine längeren Texte fehlerfrei schreiben. Daher probiert sie automatische Übersetzer aus, die ihr diese Arbeit abnehmen sollen.

Folgende Bewerbung hat Maxi in Deutsch geschrieben (nur der Anfang ist hier abgedruckt):

Bewerbung auf Ihre Anzeige "Junge Systementwickler gesucht"

Sehr geehrter Herr Maier,

in den Salzburger Nachrichten las ich, dass Sie zum 15. Mai 2002 eine junge Systementwicklerin mit der Aufgabe einstellen wollen, Systeme zur laufenden Anpassung des internen Großrechners an die Bedürfnisse der Marketing-Spezialisten zu entwickeln. Ich bewerbe mich bei Ihnen, weil ich glaube, die dafür notwendigen Voraussetzungen mitzubringen.

Nach dem Abitur studierte ich an der Universität Salzburg Informatik. Ich lernte in den ersten vier Semestern die Grundlagen des Programmierens. Anschließend verbrachte ich zwei äußerst interessante Auslandssemester an der Eidgenössischen Technischen Hochschule in Zürich, wo ich eine Vorliebe für kreative Systementwicklung entwickelte. Nach Salzburg zurückgekehrt, schloss ich mein Informatikstudium mit dem Bachelorthema "Die Probleme der Bedarfsabklärung bei Systemanpassungen" ab.....

Der Google-Übersetzer hat folgende Übersetzung geliefert:

Application on your ad "boy system developers wanted "

Dear Mr. Maier,

in the Salzburger Nachrichten, I read that you are 15 Want to set May 2002 a young system developer with the task of developing systems for the continuous adjustment of internal mainframe to the needs of marketers. I apply to you because I think to bring the necessary prerequisites.

After high school I studied computer science at the University of Salzburg. I learned in the first four semesters of the basics of programming. Then I spent two very interesting semester abroad at the Swiss Federal Institute of Technology in Zurich, where I developed a penchant for creative development system. Back in Salzburg, I closed my computer science degree with a bachelor on "The problems of the needs assessment for system adjustments" from...

Trotz ihrer schlechten Englischkenntnisse kann Maxi sofort erkennen, dass sie sich damit nicht bewerben kann. Sie probiert noch diverse andere Übersetzer aus, bekommt aber immer ähnlich schlechte Ergebnisse.

- a) **Beschreiben** Sie, welche Schwierigkeiten der Übersetzer offensichtlich bei der Übersetzung der Bewerbung hatte.

(6 BE)

Als Informatikerin sagt sich Maxi, dass sie das doch bestimmt besser kann. Sie fängt an, sich in das Thema automatische Sprachverarbeitung einzuarbeiten.

Sie entwickelt zunächst einen einfachen Satzübersetzer in Scheme und probiert ihn auf einem kleinen Lexikon aus:

```
(define *lexikon1*
  '(Erfolg success)
  (feiern celebrate)
  (mit with)
  (bei at)
  (der the)
  (die the)
  (Aufgabe exercise)
  (Test test))

(define
  (wortuebersetzereinfach word lex)
  (cond
    ((null? lex) '(Wort nicht im Lexikon))
    ((equal? word (first (first lex)))
     (first (rest (first lex))))
    (else
     (wortuebersetzereinfach word (rest lex)))))

(define
  (satzuebersetzungseinfach satz lex)
  (cond
    ((null? satz) '())
    ((null? lex)
     (cons
      '(Wort nicht im Lexikon)
      (satzuebersetzungseinfach (rest satz) *lexikon1*)))
    ((equal? (first satz) (first (first lex)))
     (cons
      (wortuebersetzereinfach (first satz) *lexikon1*)
      (satzuebersetzungseinfach (rest satz) *lexikon1*)))
    (else
     (satzuebersetzungseinfach satz (rest lex)))))
```

b) **Geben Sie an**, welche Ausgabe folgender Aufruf erzeugt. **Skizzieren** Sie dazu auch den Ablauf der Rekursion bei diesem Aufruf:

(satzuebersetzungseinfach '(Erfolg mit dieser Aufgabe) *lexikon1*) (9 BE)

c) Die oben angegebene Lösung der Satzübersetzung ist nicht optimal, da das Lexikon zweimal durchlaufen wird.

Entwickeln Sie eine bessere Lösung und **implementieren** Sie diese.

Erläutern Sie ihren Ansatz.

(7 BE)

Maxis Übersetzer beachtet bisher keine Grammatik. Diese soll nun schrittweise berücksichtigt werden.

Zunächst möchte sie sich eine passende formale Grammatik mit einfachen Regeln aufbauen, die obiges Lexikon abbildet.

Folgendes Grundgerüst einer formalen Grammatik sei gegeben

S -> NP VP	VP -> V	N -> Aufgabe	
NP -> N	VP -> V NP		
NP -> ART N			

d) **Geben** Sie die Bestandteile einer formalen Grammatik an. (5 BE)

e) **Entwerfen** Sie eine Erweiterung des Grundgerüsts, sodass der Satz „Erfolg feiern mit der Aufgabe“ zu der von der Grammatik erzeugten Sprache gehört. (8 BE)

f) Bevor ein Satz korrekt übersetzt werden kann, muss er auf seine grammatische Korrektheit überprüft werden. Dies macht folgender Parser:

```
(define (start eingabe)
  (parse eingabe (list 'np 'vp)))

(define (parse eingabe keller)
  (cond
    ((and (null? eingabe) (null? keller)) #t)
    ((null? keller) #f)
    ((null? eingabe) #f)
    ((equal? (first keller) 'vp) (vp-fkt eingabe (rest keller)))
    ((equal? (first keller) 'np) (np-fkt eingabe (rest keller)))
    ((equal? (first keller) 'pp) (pp-fkt eingabe (rest keller)))
    ((equal? (first keller) 'n) (n-fkt eingabe (rest keller)))
    ((equal? (first keller) 'v) (v-fkt eingabe (rest keller)))
    ((equal? (first keller) 'p) (p-fkt eingabe (rest keller)))
    ((equal? (first keller) 'art) (art-fkt eingabe (rest keller)))
    ((equal? (first eingabe) (first keller)) (parse (rest eingabe) (rest keller)))
    (else #f)))

(define (vp-fkt eingabe keller)
  (or (parse eingabe (cons 'v keller))
      (parse eingabe (cons 'pp keller))
      (parse eingabe (append (list 'v 'np) keller))))

(define (np-fkt eingabe keller)
  (or (parse eingabe (cons 'n keller))
      (parse eingabe (cons 'pp keller))
      (parse eingabe (append (list 'art 'n) keller))))

(define (n-fkt eingabe keller)
  (or (parse eingabe (cons 'Raum keller))
      (parse eingabe (cons 'Aufgabe keller))
      (parse eingabe (cons 'Erfolg keller))))

(define (art-fkt eingabe keller)
  (parse eingabe (cons 'der keller)))

(define (v-fkt eingabe keller)
  (or (parse eingabe (cons 'öffnen keller))
      (parse eingabe (cons 'feiern keller))))
```

Beispielaufgaben für die schriftliche Abiturprüfung im Fach Informatik

```
(define (pp-fkt eingabe keller)
  (parse eingabe (append (list 'p 'np) keller)))

(define (p-fkt eingabe keller)
  (or (parse eingabe (cons 'mit keller))
      (parse eingabe (cons 'hinein keller))))
```

Erläutern Sie anhand des Beispielaufrufs

```
(start `(Erfolg feiern mit der Aufgabe)),
```

wie der Parser arbeitet.

(8 BE)

- g) **Erklären** Sie, mit welchen weiteren Schritten die Übersetzung verbessert werden könnte, und **bewerten** Sie diese Schritte. (7 BE)

Erwartungshorizont

	Lösungsskizze	Zuordnung, Bewertung		
		I	II	III
a)	<ul style="list-style-type: none"> - falsche, fehlende Grammatik - Mehrdeutigkeit bei Wörtern - <i>Redewendungen</i> 	4	2	
b)	<div style="text-align: center;"> <pre> ((satzuebersetzung `(Erfolg mit dieser Aufgabe)) ↙ ↘ (wortuebersetzung 'Erfolg) ((satzuebersetzung `(mit dieser Aufgabe)) ↙ ↘ (wortuebersetzung 'mit) ((satzuebersetzung `(dieser Aufgabe)) ↙ ↘ (wortuebersetzung 'dieser) ((satzuebersetzung `(Aufgabe)) ↙ ↘ (wortuebersetzung 'Aufgabe) ((satzuebersetzung `()) </pre> </div> <p>Der Aufruf: <code>(satzuebersetzungeinfach `(Erfolg mit dieser Aufgabe) *lexikon1*)</code> erzeugt folgende Ausgabe: <code>(success with (Wort nicht im Lexikon) exercise)</code></p>	5	4	
c)	<p>Eine Optimierung sähe z. B. folgendermaßen aus:</p> <pre> define (satzu satz lex) (cond ((null? satz) '()) (else (cons (wortuebersetzereinfach (first satz) lex) (satzu (rest satz) lex)))) </pre> <p>Nun läuft lediglich die Wortübersetzung durch das Lexikon. Die Satzübersetzung arbeitet Wort für Wort ab, ohne durch das Lexikon zu gehen.</p>		3	4
d)	<p>Eine formale Grammatik besteht im Wesentlichen aus:</p> <ul style="list-style-type: none"> - Regeln - Startsymbol - Nichtterminale - Terminale 	5		

e)	<p>Im Wesentlichen müssen die terminalen Symbole eingefügt werden, aber auch das Erkennen von Präpositionen. Folgende Erweiterungen wären nötig, um `(Erfolg feiern mit der Aufgabe)` zu erkennen:</p> <table border="1" data-bbox="276 286 1177 533"> <tr> <td>S -> NP VP</td> <td>VP -> V PP</td> <td>N -> Aufgabe</td> </tr> <tr> <td>NP -> N</td> <td>PP -> P NP</td> <td>N -> Erfolg</td> </tr> <tr> <td>NP -> ART N</td> <td></td> <td>ART -> der</td> </tr> <tr> <td>VP -> V</td> <td></td> <td>P -> mit</td> </tr> <tr> <td>VP -> V NP</td> <td></td> <td>V -> feiern</td> </tr> </table>	S -> NP VP	VP -> V PP	N -> Aufgabe	NP -> N	PP -> P NP	N -> Erfolg	NP -> ART N		ART -> der	VP -> V		P -> mit	VP -> V NP		V -> feiern		6	2
S -> NP VP	VP -> V PP	N -> Aufgabe																	
NP -> N	PP -> P NP	N -> Erfolg																	
NP -> ART N		ART -> der																	
VP -> V		P -> mit																	
VP -> V NP		V -> feiern																	
f)	<p>Der Aufruf <code>(start `(Erfolg feiern mit der Aufgabe)) würde #t</code> ausgeben. Der Parser arbeitet Schritt für Schritt folgende Regeln ab: $S \rightarrow \mathbf{NP} VP \rightarrow \mathbf{N} VP \rightarrow$ Terminale einsetzen und bei „Erfolg“ als korrekt erkennen und rausstreichen. $\mathbf{N} VP \rightarrow \mathbf{V} \rightarrow$ Terminale einsetzen und bemerken, dass noch korrekt, da im Satz noch Wörter vorhanden, keller-Liste aber leer. $VP \rightarrow \mathbf{V} \mathbf{NP} \rightarrow$ für V Terminale ersetzen, dann NP ersetzen und feststellen, dass so kein gültiger Weg. $VP \rightarrow \mathbf{V} \mathbf{PP} \rightarrow$ für V Terminale ersetzen, dann PP ersetzen. $\forall PP \rightarrow \mathbf{P} \mathbf{NP} \rightarrow$ für P Terminale ersetzen und dann NP Ersetzen. $\mathbf{P} \mathbf{NP} \rightarrow \mathbf{N} \rightarrow$ für N Terminale ersetzen und feststellen, dass so kein gültiger Weg. $\mathbf{NP} \rightarrow \mathbf{ART} \mathbf{N} \rightarrow$ Terminale ersetzen. Satz und keller-Liste gleichzeitig abgearbeitet, daher #t ausgeben</p>		8																
g)	<p>Folgende Bereiche könnten verbessert werden:</p> <ul style="list-style-type: none"> - Lexikon erweitern - Grammatik-Regeln erweitern - nach dem Parsen übersetzen (mit Berücksichtigung einer Zielgrammatik) - Redewendungen mit einfließen lassen - Worte miteinander verknüpfen, um bei möglichen Mehrfachbedeutungen besser zuordnen zu können 			7															
	Insgesamt 50 BE	14	23	13															

Anhang zu Aufgabe III: Scheme-Kurzreferenz

Listenfunktionen

Funktion	Funktionsaufruf allgemein	Beispiel	Erläuterung
list	<code>(list element-1 ... element-n)</code>	<code>(list 'der 'hund 'frisst)</code> → (der hund frisst)	liefert die Liste mit den Elementen
cons	<code>(cons element liste)</code>	<code>(cons 'der '(hund frisst))</code> → (der hund frisst)	fügt das Element vorn in die Liste ein
append	<code>(append liste-1 ... liste-n)</code>	<code>(append '(der hund) '(frisst)</code> <code>'(leckeren Pansen))</code> → (der hund frisst leckeren Pansen)	liefert eine Liste, die der Reihe nach die Elemente der n Listen enthält
null?	<code>(null? liste)</code>	<code>(null? '(der))</code> → #f <code>(null? '())</code> → #t	prüft, ob die Liste leer ist
list?	<code>(list? objekt)</code>	<code>(list? 'a)</code> → #f <code>(list? '(der hund))</code> → #t	prüft, ob das Objekt eine Liste ist
equal?	<code>(equal? objekt-1 objekt-2)</code>	<code>(equal? 'der 'the)</code> → #f	prüft, ob die Objekte gleich sind
not	<code>(not arg1)</code>	<code>(not test)</code>	Gibt „wahr“ zurück, wenn das Argument falsch ist
number?	<code>(number? arg1)</code>	<code>(number? 234)</code>	Gibt „wahr“ zurück, wenn das Argument eine Zahl ist.

Makros

Funktion	Funktionsaufruf allgemein	Beispiel	Erläuterung
cond	<pre>(cond (bedingung1 ausdruck2) ... (bedingung-n ausdruck-n))</pre>	<pre>(cond ((>? x 2) (+ x 5)) ((=? x 2) (* x 5)) (else (* x 7)))</pre>	Mehrfachfallunterscheidung: liefert den Ausdruck zurück, dessen Bedingung zu true evaluiert
define	<pre>(define variable ausdruck)</pre>	<pre>(define *lex* '((cat katze) (dog hund)))</pre>	Definition von globalen Variablen
define	<pre>(define (funktionsname parameter- 1 ... parameter-n) ausdruck)</pre>	<pre>(define (sqr x) (* x x))</pre>	Definition von Funktionen
let	<pre>(let ((var-1 ausdr-1) (var-2 ausdr-2) ... (var-n ausdr-n)) Ausdruck)</pre>	<pre>(let ((x 2) (y 3)) (* x y))</pre>	lokale Variablenbindungen